

1

$$\sqrt[3]{512} = ?$$

A. 5

B. 8

C. 6

D. 9

Answer:

B. 8

2 Out of the given options, choose the most appropriate one to fill in the blank.
A policeman _____ the thief.

A.caught

B.have caught

C.have catch

D.has catch

Answer:

A.caught

3

जर ,573 = 684 आणि ,861 = 972 तर? = 478

If 684 = 573, and 972 = 861, then 478 = ?

اگر ,684 = 573 اور ,972 = 861، تو 478 = ?

A. 804

B. 480

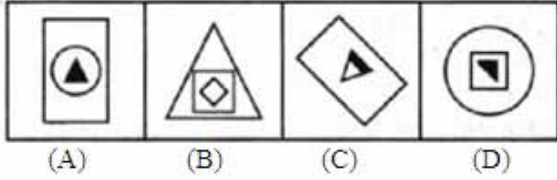
C. 367

Answer: C. 367

4 सूचना: दिलेल्या चारोंपैकी वेगळी (असंबद्ध) असणारी आकृती शोधून काढा.

DIRECTIONS: Find the odd figure from the given four figures

ہدایات: دیتے کئے چار شکلوں میں طاق کونسی ہے۔



A. (A)

B. (B)

C. (C)

D. (D)

Answer: C. (C)

5

सूचना: हे प्रश्न खालील माहितीवर आधारित आहेत.

पाच मुले - A, B, C, D आणि E हे रांग - I मध्ये उत्तर दिशेकडे तोंड करून बसलेली आहेत, आणि पाच मुली - P, Q, R, S आणि T - रांग - II मध्ये दक्षिण दिशेकडे तोंड करून बसलेल्या आहेत, ते त्याच क्रमाने असतील असे नाही. रांग - I मधील प्रत्येक मुलगा रांग - II च्या बरोबर एका मुली सामोर आहे. त्यांच्याबद्दल खालील माहिती दिलेली आहे.

A आणि त्या मुलाच्या दरम्यान फक्त दोन लोक बसतात जो Q च्या सामोर आहे, आही जो कोणत्याही शेवटाला बसलेला नाही. C हा B च्या तक्काळ डाव्या बाजूला आहे, परंतु ते दोघे E च्या समीप नाहीत. P त्या मुलाच्या सामोर आहे जो D च्या तक्काळ उजवीकडे आहे. D हा Q च्या सामोर बसलेला नाही. R त्या मुलीच्या डाव्या बाजूस आहे जी D च्या सामोर आहे. C हा D च्या सामोर नाही.

D चा शेजारी कोण आहेत?

DIRECTIONS: These questions are based on the following information.

Five boys – A, B, C, D and E – are sitting in row-I, facing North, and five girls – P, Q, R, S and T – are sitting in row-II facing South, not necessarily in the same order. Each boy in row - I is facing exactly one girl from row -II. The following information is known about them.

Only two persons sit between A and the boy who faces Q, who does not sit at any end. C is to the immediate left of B, but both of them are not adjacent to E. P is opposite the boy who is to the immediate right of D. D does not sit opposite Q. R is to the left of the girl who faces D. C does not face S.

Who are the neighbours of D?

ہدایات: یہ سوالات مندرجہ ذیل معلومات پر مبنی ہیں۔

A اور Q کے فوراً B، C کا سامنا کرنے والے لڑکے کے درمیان صرف دو لوگ بیٹھے ہیں، جو کسی بھی سرے پر نہیں بیٹھا ہے۔ Q اور A کے D، Q کے فوراً دائیں طرف ہے۔ D اس لڑکے کے بالمقابل ہے جو P کے بغل میں نہیں ہیں۔ E بائیں طرف ہے، لیکن وہ دونوں کے سامنے نہیں ہے۔ S، C کا سامنا کرنے والی لڑکی کے بائیں طرف بیٹھی ہے۔ D، R، D کے مقابل نہیں بیٹھا ہے۔ D کے پڑوسی کون ہیں؟

A.C आणि A

A.C and A

A.C اور A

B.B आणि E

B.B and E

B.B اور E

C.C आणि B

C.C and B

C.C اور B

D.E आणि A

D.E and A

D.E اور A

Answer: B.B आणि E

B.B and E

B.B اور E

6

सूचना: अर्थपूर्ण परिच्छेद निर्माण करण्यासाठी, खाली दिलेली (P), (Q) (R), (S) आणि (T) ही पाच वाक्ये योग्य अनुक्रमाने पुनर्रचना करा; त्यानंतर खालील प्रश्नांची उत्तर द्या. P. बाळ कृष्ण मूठभर धान्य पकडले आणि दरवाजाकडे पळाला परंतु सर्व धान्य खाली सांडले.

Q. लवकरच तिला जाणवले कि तिची फळांच्या टोपली रत्न आणि सोन्याने भरलेली आहे.

R. कृष्णाला काही फळे हवी होती, त्याने त्या स्त्रीकडे फळे मागितली परंतु तिने त्याबदल्यात मोबदला मागितला.

S. ते पाहून, फळविक्रेती स्त्री श्रीकृष्णाकडे मोहित झाली आणि त्याच्या मुठीत जे काय असेल त्याबदल्यात सर्व फळे त्याला दिली.

T. एकेदिवशी फळविक्रेती स्त्री कृष्णाच्या घराजवळून निघाली होती.

पुनर्रचना केल्यानंतर खालीलपैकी कोणते वाक्य तिसरे असेल?

DIRECTION: Rearrange the following five sentences (P), (Q), (R), (S) and (T) in the proper sequence to form a meaningful paragraph; then answer the questions given below them.

P. Baby Krishna grabbed a handful of grains and ran towards the door but all the grains fell in the way.

Q. Soon she realized that her fruit basket was full of jewels and gold.

R. Krishna wanted to have some fruit, he asked the lady for fruit but the lady demanded something in return.

S. On seeing this, the fruit lady was completely smitten by Lord Krishna and gave him all the fruits in exchange for whatever was in his hands.

T. Once a lady who was selling fruits was crossing Shri Krishna's house.

Which of the following should be the THIRD sentence after rearrangement?

کو با معنی پیرا بنانے کے لئے دوبارہ ترتیب دیجئے، پھر نیچے دے گئے سوالوں (T) اور (S)، (R)، (Q)، (P) ہدایات: ان پانچ جملوں کے جواب دیجئے

P. بچہ کرشنا نے مٹھی پر اناج اٹھایا اور دروازے کی طرف باگا لیکن تمام اناج راستے میں گر گیا.

Q. جلدی اسکو احساس ہوا کی اسکی پھولوں کی ٹوکری جوابرات اور سونے سے بری ہے.

R. کرشنا کو کچھ میوہ چاہیے، اسنے عورت سے میوے کے لئے کہا لیکن عورت نے اسکے بدلے کچھ مانگا.

S. بے دیکھ کر، میوے والی عورت دیوتا کرشنا سے بہت متاثر ہوئی اور اسے سارے میوے دے دے بدلے اسکے کہ جو اسکے ہاتھ میں تھا.

T. ایک بار ایک میوہ بچھنے والی عورت شری کرشنا کے گھر سے گزری.

دوبارہ ترتیب دینے کے بعد کون سا جملہ تیسرا ہونا چاہیے؟

A.P

A.P

A.P

B.Q

B.Q

B.Q

C.R

C.R

C.R

D.T

D.T

D.T

Answer: A.P
A.P
A.P

7 $2x^2 + 11x + 14 = 0$ या वर्गसमीकरणाची मुळे आहेत:

The roots of the quadratic equation $2x^2 + 11x + 14 = 0$ are:

हे $2x^2 + 11x + 14 = 0$ च्या वर्गसमीकरणाचे मुळे आहेत:

A.7, 2

A.7, 2

A.7, 2

B.-7/2, -2

B.-7/2, -2

B.-7/2, -2

C.-5/2, -2

C.-5/2, -

C.-5/2, -

D.7/2, 2

D.7/2, 2

D.7/2, 2

Answer: B.-7/2, -2
B.-7/2, -2
B.-7/2, -2

8 केले, सफरचंद, खजूर, अंजीर, मनुका, आणि जर्दाळू इत्यादी फळे आहेत

Fruits like banana, apple, dates, figs, raisins, and prunes etc. are

केले, सफरचंद, खजूर, अंजीर, मनुका, आणि जर्दाळू इत्यादी फळे आहेत

A. कार्बोहायड्रेट्स

A. Carbohydrates

A. कार्बोहायड्रेट्स

B. प्रोटीन

B. Proteins

B. प्रोटीन

C.जीवनसत्त्व
C.Vitamins
C. وٹامن

D.वरीलपैकी सर्व
D.All of the above
D. اوپر کا سارا

Answer: A.कार्बोहायड्रेट्स
A.Carbohydrates
A. کاربوہائیڈریٹ

9 'छकविणे' या शब्दाचा विरुद्धार्थी शब्द कोणता ?

A.फसविणे
B.प्रामाणिकपणे
C.लपविणे
D.ठकविणे

Answer: B.प्रामाणिकपणे

10 दिलेली अदलाबदल : चिन्हे \div आणि \times , तसेच आकडे 6 आणि 8 तर $6 \times 8 \div 2$ चे मूल्य किती ?

Given interchanges: signs \div and \times , and numbers 6 and 8; then the value of $6 \times 8 \div 2$ is

دیئے گئے تبادله: علامات \div اور \times , اور نمبر 6 اور 8؛ تو $6 \times 8 \div 2$ کی تعداد ہے

A.2
A.2
A.2

B.3
B.3
B.3

C.1.5
C.1.5
C.1.5

D.0.75
D.0.75
D.0.75

Answer: C.1.5
C.1.5
C.1.5

11 सरळ रूप द्या:
 $9999999 + 10000000 + 9999 + 100000 = ?$

Simplify:
 $9999999 + 10000000 + 9999 + 100000 = ?$

آسان بنائیں:
 $9999999 + 10000000 + 9999 + 100000 = ?$

A.20109998
A.20109998
A.20109998

B.20108998
B.20108998
B.20108998

C.20107998
C.20107998
C.20107998

D.20109898
D.20109898
D.20109898

Answer: A.20109998
A.20109998
A.20109998

12 दोन संख्या 3:4 गुणोत्तरात आहेत. त्यांच्या लसावी आणि मसावीचा गुणाकार 300 आहे, संख्यांची बेरीज आहे?

Two numbers are in the ratio 3:4. The product of their H.C.F. and L.C.M. is 300. The sum of the numbers is?

दो अعداد का تناسب 3:4 है. उन के अिच-सी-अिफ और अल-सी-अिम-का حاصل ضرب 300 है. अعداد का مجموعه है?

A.35
A.35
A.35

B.65

B.65

B.65

C.68

C.68

C.68

D.39

D.39

D.39

Answer: A.35

A.35

A.35

13 खालीलपैकी कोणते वनस्पतीच्या संवर्धनाच्या इन-सिटू पद्धतीचे स्थान नाही?

Which one of the following is not a site for in-situ method of conservation of flora?

درج ذیل میں سے کونسا پودوں کو محفوظ رکھنے کا اندرونی طریقہ نہیں ہے

A. बायोस्फीयर रिझर्व्ह

A. Biosphere Reserve

A. بائیو اسفیر ریزرو

B. बोटॅनिकल गार्डन

B. Botanical Garden

B. بوٹینکل گارڈن

C. राष्ट्रीय उद्यान

C. National Park

C. नیشنल पार्क

D. वन्यजीव अभयारण्य

D. Wildlife Sanctuary

D. وانلڈ سینکچری

Answer: B. बोटॅनिकल गार्डन

B. Botanical Garden

B. بوٹینکل گارڈن

14

पुढील म्हण पूर्ण करा - 'आयत्या बिळात -----.'

A.नागोबा

B.उंदीर

C.खेकडा

D.बिल्ली

Answer: A.नागोबा

15 समजा तुम्ही ट्रेनमध्ये प्रवास करत आहात. अचानक आपण आपल्या जुन्या विद्यार्थ्याला ओळखाल जो तुम्हाला ओळखण्याचा कोणताही इशारा ना देता तिथून निघतो. अशा स्थितीत आपण काय विचार कराल?

Suppose you are travelling in a train. All of a sudden you recognize your old student who is passing without any salutary mark. What will you think in such condition?

فرض کریں کہ آپ ایک ٹرین میں سفر کر رہے ہیں۔ اچانک آپ اپنے پرانے طالب علم کو دیکھتے ہیں جو بغیر کسی سلام دعا کے وہاں سے گزر جاتا ہے۔ ایسی حالت میں آپ کیا سوچیں گے؟

A.आपण स्वतः ला शाप करणार कारण आपल्या विद्यार्थ्यांनी कोणत्याही बाबतीत आदर दिला नाही

A.You will be cursing yourself as your student has not given any respect

A.آپ اپنے آپ پر لعنت بھیجیں گے کیونکہ آپ کے طالب علم نے آپ کا احترام نہیں کیا ہے

B.आपण विचार कराल की विद्यार्थी आपल्याला ओळखू शकत नाही

B.You will think that the student cannot recognize you

B.آپ سوچیں گے کہ طالب علم آپ کو پہچان نہیں سکا

C.आपण विद्यार्थ्यांमधील आधुनिक असभ्य वर्तनाचा शाप लावणार

C.You will be cursing the modern disrespectful trend in students

C.آپ طالب علموں میں جدید ناپسندیدہ رجحان پر لعنت بھیجیں گے

D.आपण आपल्या विद्यार्थ्यांशी संबंधित आणखी सुधारणा करण्यासाठी आत्मनिरीक्षण कराल

D.You will introspect in relation to your students for further improvement.

D.آپ مزید بہتر بنانے کے لئے اپنے طالب علموں کے ساتھ تعلق کی خود احتسابی کریں گے

Answer: D.आपण आपल्या विद्यार्थ्यांशी संबंधित आणखी सुधारणा करण्यासाठी आत्मनिरीक्षण कराल

D.You will introspect in relation to your students for further improvement.

D.آپ مزید بہتر بنانے کے لئے اپنے طالب علموں کے ساتھ تعلق کی خود احتسابی کریں گے

16 पुढील जोडशब्द पूर्ण करा . ' उलट -----'

A.सुलट

B.उताणा

C.पलट

D.उत्तर

Answer:

A.सुलट

17

मुख्य स्मृती यासोबत सहजासहजी काम करते

Main memory works in conjunction with

मिन मिमुरी..... के साथे استعمال हुता हे-

A.विशेष कार्य कार्ड

A. Special function cards

A. اسپیشل فنکشن कार्ड

B.रॅम

B. RAM

B. रيم (RAM)

C.सीपीयू

C. CPU

C. सी पी यू

D.इंटेल्

D. Intel

D. इन्टिल

Answer:

C.सीपीयू

C. CPU

C. सी पी यू

18

मेंडसले _____ करता प्रसिद्ध आहे.

The Mandsley is a famous

मन्डली एक मशहूर हे

A.लंडनमधील मानसिक रुग्णालय

A.Mental hospital in London

A. लंडन मिन दमागी हस्पिटल

B. वस्तूसूची
B. Inventory
B. انویٹری

C. मानसिक क्षमता चाचणी
C. Mental ability test
C. دماغی صلاحیت کی جانچ

D. मानसिक उपचार
D. Psychological therapy
D. نفسیاتی تھراپی

Answer:

A. लंडनमधील मानसिक रुग्णालय
A. Mental hospital in London
A. لندن میں دماغی ہسپتال

19 सूचना: खालील प्रश्नांमध्ये दिलेल्या पर्यायांमधून संबंधित अक्षर/शब्द/संख्या निवडा.

बॉल : गोलाकार ::

DIRECTIONS: In the following question, select the related letter/word/number from the given alternatives.

Ball : Round ::

سمت: مندرجہ ذیل سوال میں، دیے گئے متبادل سے متعلقہ حرف/لفظ/نمبر منتخب کریں۔

گیند : گول ::

A. बॅट : लाकूड
A. Bat : Wood
A. بلا : لکڑی

B. गणित : क्रिकेट
B. Math : Cricket
B. ریاضی : کرکٹ

C. शंकू: शंकूच्या आकाराचे
C. Cone: Conical
C. مخروط: مخروطی

D. पुस्तक : लांब
D. Book : Long
D. کتاب : لمبا

Answer: C.शंकू: शंकूच्या आकाराचे
C.Cone:Conical
C.مخروط:مخروطی.

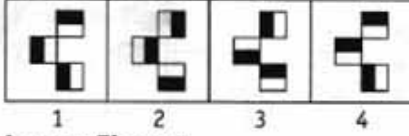
20

सूचना: दिलेल्या पर्यायांमधून श्रेणी पूर्ण करणारी योग्य आकृती निवडा.

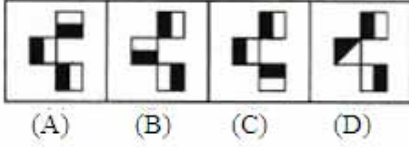
DIRECTIONS: Complete the series by choosing right figure from the given choices.

ہدایات: دیئے گئے اختیارات میں صحیح شکل کا انتخاب کر کے سیریز کو مکمل کیجیے۔

Problem Figures



Answer Figures



A. (A)

B. (B)

C. (C)

D. (D)

Answer: C. (C)

21

महात्मागांधींची अहिंसा आणि हिटलरचे नाझिम्स याचे उदाहरण आहे

Mahatma Gandhi's non-violence and Hitler's Nazism are examples of

महात्मा गान्धेयी का अहिंसा आणु हिटलर का नाझिस्म याचे उदाहरण आहू

A.केंद्रीय गुण

A.Central traits

A. مرکزی خصوصیت

B.माध्यमिक गुण

B.Secondary traits

B. ثانوی خصوصیت

C.मुख्य गुण
C.Cardinal traits
C.بنیادی خصوصیت

D.यापैकी एकही नाही
D.None of these
D.ان میں سے کوئی نہیں

Answer: C.मुख्य गुण
C.Cardinal traits
C.بنیادی خصوصیت

22 DIRECTIONS: A sentence with an underlined word is given below. Find the word which is opposite in meaning to the underlined word from the given options.
The reckless driver accelerated to overtake the bus.

A.Delayed

B.Hastened

C.Rushed

D.Hurried

Answer: A.Delayed

23 हिरे ग्रेफाइटपेक्षा कठोर आहे कारण-

Diamond is harder than Graphite because of—

_____ کی وجہ سے ہیرا گریفائٹ سے زیادہ سخت ہوتا ہے

A.अणू स्तरांचा फरक असतो
A.Difference of Layers of atom
A.ایٹم کی پرت میں اختلاف

B.हिरे परिष्कृत केलेले असतात
B. Diamonds are polished
B.ہیرا پالش ہوتا ہے

C.स्फटिकमय संरचनेचा फरक आहे
C. Difference of crystalline structure
C.کرسٹلن ڈھانچے کے تفریق

- D. यापैकी एकही नाही
D. None of these
D. ان میں سے کوئی بھی نہیں

Answer: C. स्फटिकमय संरचनेचा फरक आहे
C. Difference of crystalline structure
C. क्रस्टलन ڈहानچे के तفریق

24

जर $\frac{50}{*} = \frac{*}{12\frac{1}{2}}$ तर * चे मूल्य किती:

If $\frac{50}{*} = \frac{*}{12\frac{1}{2}}$ then the value of * is:

अगर $\frac{50}{*} = \frac{*}{12\frac{1}{2}}$ तो पहर * की قدر है:

- A. 25/2
B. 4/25
C. 4
D. 25

Answer: D. 25

25

सूचना: दिलेल्या पर्यायांमधून वेगळे ते बाहेर काढा.

DIRECTIONS: Find the odd one out from the given alternatives.

سمت: دیے گئے متبادل میں سے بے جوڑ کو تلاش کرو۔

A. मांजरे
A. CATS
A. بللیا

B. आंघोळ
B. BATH
B. غسل करना

C. घुबडे
C. OWLS
C. اللو

D.बूल
D.BOUL
D.بول

Answer: D.बूल
D.BOUL
D.بول

26 जर बॅगला जेवणाचा डबा म्हटले, जेवणाच्या डब्याला पर्स म्हटले, पर्सला कपाट म्हटले, कपाटाला ड्रॉवर म्हटले, ड्रॉवरला रॅक म्हटले आणि रॅकला टेबल म्हटले, तर आपण पैसे ठेवण्यासाठी काय वापरू?

If bag is called lunch box, lunch box is called purse, purse is called cupboard, cupboard is called drawer, drawer is called rack and rack is called table, we can use for putting money in

अगर बीग को लंच का डबा, लंच बॉक्स को पर्स, पर्स को कपट, कपट को ड्रॉवर, ड्रॉवर को रॅक, रॅक को टेबल म्हणजे, तर आपण पैसे ठेवण्यासाठी काय वापरू?

A.बॅग
A.Bag
A. बीग में

B.पर्स
B.Purse
B. पर्स में

C.ड्रॉवर
C.Drawer
C. ड्रायर में

D.कपाट
D.Cupboard
D. कपट में

Answer: D.कपाट
D.Cupboard
D. कपट में

27 डेसिबल एक आहे:

Decibel is a:

डेसिबल एक _____ है-

A.संगीतिक सूर

A.Musical note

A.میوزیکل نوٹ

B.संगीतिक वाद्य

B. Musical instrument

B.میوزیکل انسٹرومینٹ

C.आवाज तीव्रतेचे एकक

C. Unit of sound intensity

C.आواز کی شدت کی یونٹ

D.अंतराचे एकक

D. Unit of distance

D.مسافت کی یونٹ

Answer:

C.आवाज तीव्रतेचे एकक

C. Unit of sound intensity

C.आواز کی شدت کی یونٹ

28

एका मुलाकडे बोट दाखवून, मीना म्हणते, "हा माझ्या वडीलांच्या वडिलांचा एकुलता मुलगा आहे. मग त्या मुलाचे मीनाशी नाते काय?"

Pointing to a boy, Meena said, "He is the only son of my father's father. How is the boy related to Meena?"

लڑके की طرف اشارہ کرके، मीना ने कहा، "ये میرے बाप के बाप का واحد بیٹा ہے. लڑके का मीना से क्या रश्ते तها?"

A.भाऊ

A.Brother

A.بھائی

B.काका

B.Uncle

B.چچا

C.पुतण्या

C.Nephew

C.بتیجا

D.यापैकी एकही नाही

D.None of these

D.ان میں سے کوئی نہیں

Answer:

D.यापैकी एकही नाही

D.None of these

D.ان میں سے کوئی نہیں

29 सामाजिक संवादातील कमजोरी, सामाजिक संवाद आणि सामाजिक कल्पकता _____ यात दिसून येते.

Impairment in social communication, social interaction and social imagination is seen in

:समाजी رابطے، समाजी تعامل، समाजी تصور میں نقص को سمجھا जाता है

A. डाऊनचे सौलक्षण

A. Down's syndrome

A. डाउन سنड्रोम

B. एस्पेर्जरचे सौलक्षण

B. Asperger syndrome

B. ऐस्पेर्जर्स سنड्रोम

C. मानसिक दुर्बलता

C. Mental retardation

C. दमागी कमी

D. यापैकी एकही नाही

D. None of these

D. अन मीन से कुणी नहीन

Answer:

B. एस्पेर्जरचे सौलक्षण

B. Asperger syndrome

B. ऐस्पेर्जर्स سنड्रोम

30 व्यक्तिमत्वाच्या अंधाऱ्या, नकोशा वाटणाऱ्या व आदिम बाजूचे प्रतिनिधित्व करणारे आदिमरूप

The Archetype that represents the dark, unwelcome and animalistic side of personality

आर्क की क्सेम जो अन्धेरी के नमान्दगी कर्ती है, शख्सियत का गैर खोशगुवार और शहोत परस्ताने रख है

A. भूमिका

A. Persona

A. मखखसे

B. सावली

B. Shadow

B. साये

C. नरप्रतिमा

C. Animus

C. अनिम्स

D.नारीप्रतिमा
D.Anima
D.انما.

Answer: B.सावली
B.Shadow
B.سایہ.

31 एका व्यक्तीचे वय हे त्याच्या मुलाच्या वयाच्या दुप्पट आहे. 20 वर्षांपूर्वी ती व्यक्ती त्याच्या मुलापेक्षा बार पट मोठी होती. वडीलांचे वर्तमान वय काय आहे (वर्षामध्ये)

The age of a man is twice his son's age. 20 years ago, the man was twelve times as old as his son.
What is the present age of father (in years)

ایک آدمی کی عمر اس کے بیٹے کی عمر کے 2 گنا ہے۔ 20 سال پہلے، آدمی کی عمر بیٹے کی عمر کے 12 گنا تھی۔ اب والد کی موجودہ عمر (سالوں میں) کیا ہے؟

A.24
A.24
A.24

B.22
B.22
B.22

C.44
C.44
C.44

D.148
D.148
D.148

Answer: C.44
C.44
C.44

सूचना: हे प्रश्न खालील माहितीवर आधारित आहेत.

पाच मुले - A, B, C, D आणि E हे रांग - I मध्ये उत्तर दिशेकडे तोंड करून बसलेली आहेत, आणि पाच मुली - P, Q, R, S आणि T - रांग - II मध्ये दक्षिण दिशेकडे तोंड करून बसलेल्या आहेत, ते त्याच क्रमाने असतील असे नाही. रांग - I मधील प्रत्येक मुलगा रांग - II च्या बरोबर एका मुली सामोर आहे. त्यांच्याबद्दल खालील माहिती दिलेली आहे.

A आणि त्या मुलाच्या दरम्यान फक्त दोन लोक बसतात जो Q च्या सामोर आहे, आही जो कोणत्याही शेवटाला बसलेला नाही. C हा B च्या तत्काळ डाव्या बाजूला आहे, परंतु ते दोघे E च्या समीप नाहीत. P त्या मुलाच्या सामोर आहे जो D च्या तत्काळ उजवीकडे आहे. D हा Q च्या सामोर बसलेला नाही. R त्या मुलीच्या डाव्या बाजूस आहे जी D च्या सामोर आहे. C हा D च्या सामोर नाही.

S च्या कोण सामोर आहे?

DIRECTIONS: These questions are based on the following information.

Five boys – A, B, C, D and E – are sitting in row-I, facing North, and five girls – P, Q, R, S and T – are sitting in row-II facing South, not necessarily in the same order. Each boy in row - I is facing exactly one girl from row -II. The following information is known about them.

Only two persons sit between A and the boy who faces Q, who does not sit at any end. C is to the immediate left of B, but both of them are not adjacent to E. P is opposite the boy who is to the immediate right of D. D does not sit opposite Q. R is to the left of the girl who faces D. C does not face S.

Who faces S?

ہدایات: یہ سوالات مندرجہ ذیل معلومات پر مبنی ہیں۔

A اور Q کے فوری B، C کا سامنا کرنے والے لڑکے کے درمیان صرف دو لوگ بیٹھے ہیں، جو کسی بھی سرے پر نہیں بیٹھا ہے۔ Q اور A کے D، Q کے فوری دائیں طرف ہے۔ D اس لڑکے کے بالمقابل ہے جو P کے بغل میں نہیں ہیں۔ E بائیں طرف ہے، لیکن وہ دونوں کے سامنے نہیں ہے۔ S، C کا سامنا کرنے والی لڑکی کے بائیں طرف بیٹھی ہے۔ D، R مقابل نہیں بیٹھا ہے۔ S کے سامنے کون ہے؟

A.A

A.A

A.A

B.B

B.B

B.B

C.D

C.D

C.D

D.E

D.E

D.E

Answer: C.D

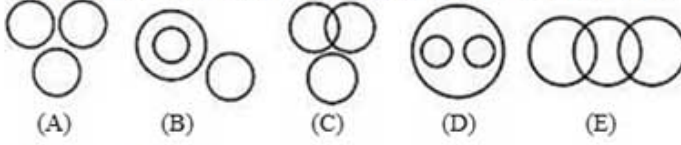
C.D

C.D

सूचना: खालील प्रश्नात असे 3 घटक आहेत ज्यांचा परस्परशी विशिष्ट संबंध आहे. समान संबंध वर्तुळाच्या संचांनी दर्शविलेला आहे, प्रत्येक वर्तुळ त्याचा आकार कितीही असला तरी, एका घटकाचे प्रतिनिधित्व करते. योग्य वर्तुळाच्या संचांशी खालील घटकांच्या जोड्या लावा.

DIRECTION: The question below has three items having certain relationship among them. The same relationship is expressed by sets of circles, each circle representing one item irrespective of its size. Match the items with right set of circles.

ہدایت: مندرجہ ذیل سوال میں تین ائٹم ہیں جن کے مابین مختلف تعلقات ہیں. دائروں کے ایک سیٹ کے ذریعہ یکساں تعلق ظاہر کیا جاتا ہے، ہر دائرہ سائز سے قطع نظر ایک ائٹم کی نمائندگی کرتا ہے۔ ائٹم کو دائروں کے درست سیٹ کے ساتھ ملائیے۔



पोलिस, डॉक्टर, महिला

Police, Doctor, Female

پولیس، ڈاکٹر، عورت

A. (A)

B. (B)

C. (C)

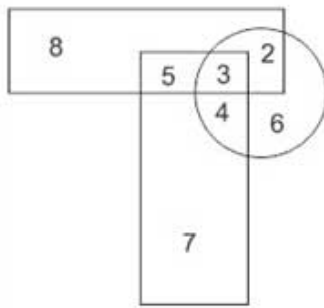
D. (E)

Answer: D. (E)

कोणती संख्या तिन्ही आकृतींमध्ये उपस्थित आहे?

Which number is present in all the three figures?

کونوں اعداد و شمار میں کون سا نمبر موجود ہے؟



A. 2

B. 3

C. 4

D. 5

Answer: B. 3

35 ' मन मोठे करणे ' या वाक्प्रचाराचा अर्थ काय ?

- A. मनापासून लक्ष देणे
- B. मनात कायमचे राहणे
- C. उदारपणा दाखविणे
- D. मनात पक्का विचार करणे

Answer: C. उदारपणा दाखविणे

36 खालीलपैकी कोणते आयन्य कठीण पाण्याचे प्रमुख घटक आहेत?

Which of the following ions is the major constituent of hard water?

مشکل پانی کے اہم جزو مندرجہ ذیل آئنوں میں سے کون ہے؟

- A. मॅग्नेशियम कार्बोनेट
A. Magnesium carbonates
A. میگنیشیم کاربونیٹس.
- B. पारा ऑक्साईड
B. Mercury Oxide
B. मरकुरी ऑक्साईड.
- C. सोडियम क्लोराईड
C. Sodium Chloride
C. सोडियम क्लोराईड.
- D. वरीलपैकी सर्व
D. All the above
D. मन्दर्ज्हे बाला त्माम.

Answer: A. मॅग्नेशियम कार्बोनेट
A. Magnesium carbonates
A. میگنیشیم کاربونیٹس.

सूचना: अर्थपूर्ण परिच्छेद निर्माण करण्यासाठी, खाली दिलेली (P), (Q) (R), (S) आणि (T) ही पाच वाक्ये योग्य अनुक्रमाने पुनर्रचना करा; त्यानंतर खालील प्रश्नांची उत्तर द्या. P. बाळ कृष्ण मूठभर धान्य पकडले आणि दरवाजाकडे पळाला परंतु सर्व धान्य खाली सांडले.

Q. लवकरच तिला जाणवले कि तिची फळांच्या टोपली रत्न आणि सोन्याने भरलेली आहे.

R. कृष्णाला काही फळे हवी होती, त्याने त्या स्त्रीकडे फळे मागितली परंतु तिने त्याबदल्यात मोबदला मागितला.

S. ते पाहून, फळविक्रेती स्त्री श्रीकृष्णाकडे मोहित झाली आणि त्याच्या मुठीत जे काय असेल त्याबदल्यात सर्व फळे त्याला दिली.

T. एकेदिवशी फळविक्रेती स्त्री कृष्णाच्या घराजवळून निघाली होती.

पुनर्रचना केल्यानंतर खालीलपैकी कोणते वाक्य पाचवे असेल?

DIRECTION: Rearrange the following five sentences (P), (Q), (R), (S) and (T) in the proper sequence to form a meaningful paragraph; then answer the questions given below them.

P. Baby Krishna grabbed a handful of grains and ran towards the door but all the grains fell in the way.

Q. Soon she realized that her fruit basket was full of jewels and gold.

R. Krishna wanted to have some fruit, he asked the lady for fruit but the lady demanded something in return.

S. On seeing this, the fruit lady was completely smitten by Lord Krishna and gave him all the fruits in exchange for whatever was in his hands.

T. Once a lady who was selling fruits was crossing Shri Krishna's house.

Which of the following should be the FIFTH sentence after rearrangement?

کو با معنی پیرا بنانے کے لئے دوبارہ ترتیب دیجئے، پھر نیچے دے گئے سوالوں (T) اور (S)، (R)، (Q)، (P) ہدایات: ان پانچ جملوں کے جواب دیجئے

P. بچہ کرشنا نے مٹھی بر اناج اٹھایا اور دروازے کی طرف باگا لیکن تمام اناج راستے میں گر گیا.

Q. جلدی اسکو احساس ہوا کی اسکی پھولوں کی ٹوکری جوابرات اور سونے سے بری ہے.

R. کرشنا کو کچھ میوہ چاہیے، اسنے عورت سے میوے کے لئے کہا لیکن عورت نے اسکے بدلے کچھ مانگا.

S. بے دیکھ کر، میوے والی عورت دیوتا کرشنا سے بہت متاثر ہوئی اور اسے سارے میوے دے دے بدلے اسکے کہ جو اسکے ہاتھ میں تھا.

T. ایک بار ایک میوہ بچھنے والی عورت شری کرشنا کے گھر سے گزری.

دوبارہ ترتیب دینے کے بعد کون سا جملہ پانچوہ ہونا چاہیے؟

A.Q

A.Q

A.Q

B.P

B.P

B.P

C.T

C.T

C.T

D.S

D.S

D.S

Answer: A.Q
A.Q
A.Q

38 समजा तुम्ही महत्वाकांक्षी शिक्षक आहात, आपण वर्गाच्या शिक्षणासाठी उच्च आदर्श राखलेले आहात परंतु तुमची मेहनत व्यर्थ ठरली आहे. कारण विद्यार्थी परिणाम समाधानकारक नाही आहे या समस्येचे कारण आहे

Suppose you are an ambitious teacher. You have high ideals for class-room teaching but your hard-labor goes in vain. The reason is that the students result is not satisfactory. The reason of this problem is-

فرض کریں آپ ایک پرجوش استاد ہیں. آپ کے پاس کلاس روم کے درس کے لئے اعلیٰ نظریات موجود ہیں لیکن آپ کی محنت ضائع -جاتی ہے. وجہ یہ ہے کہ طالب علم کا نتیجہ تسلی بخش نہیں ہے. اس مسئلہ کی وجہ یہ ہے

A. विद्यार्थ्यांच्या शैक्षणिक स्तरावर घट

A. Downfall in the educational level of the students

A. طالب علموں کی تعلیمی سطح میں کمی

B. आपले अहंकारी वर्तन विद्यार्थ्यांच्या पातळी पली कडचे आहे

B. Your egoistic teaching behavior beyond student's own level

B. آپ کا انا والا تدریسی طرز عمل طالب علم کے اختیار سے باہر ہے.

C. विद्यार्थ्यांमध्ये वैयक्तिक मतभेद

C. Individual differences among the students

C. طالب علموں کے درمیان انفرادی اختلافات

D. विद्यार्थ्यांना शिक्षण घेण्याची संधी नसणे

D. The teaching has no access to students.

D. اساتذہ کو طلباء تک رسائی نہیں ہے.

Answer: C. विद्यार्थ्यांमध्ये वैयक्तिक मतभेद
C. Individual differences among the students
C. طالب علموں کے درمیان انفرادی اختلافات

39 खालीलपैकी कोणता धातू विद्युत चुंबक म्हणून वापरले जाऊ शकत नाही?

Which one of the following metals cannot be used as an electromagnet?

مندرجہ ذیل میں سے کس دھات کا استعمال ایک الیکٹرومیگنیٹک کے طور پر نہیں کیا جا سکتا ہے؟

A. लोखंड

A. Iron

A. لوہا

B.तांबे
B. Copper
B. تانبا.

C.निकेल
C. Nickel
C. (نکل) (نقلی چاندی.)

D.कोबाल्ट
D. Cobalt
D. کوبالٹ.

Answer: B.तांबे
B. Copper
B. تانبا.

40 निर्देश: खालील प्रश्न दिलेल्या शब्दांवर आधारित आहेत.

Hell/ Valuable/ Reify/ Plethoric/ Story

जर दिलेल्या शब्दांमध्ये स्वरांना मागील अक्षराने बदलले तर व्यंजनाची जागा त्याच्या पुढच्या अक्षराने बदलली तर किती शब्द न मध्ये किमान एक स्वर असेल?

DIRECTIONS: Following question is based on the given words.

Hell/ Valuable/ Reify/ Plethoric/ Story

If in the given words vowels are replaced with its previous letter and Consonant are replaced with its next letter then how many words have at least one vowel?

ہدایت جیل کے سوال دے ہے لفجونپر مشتمل ہیں

Hell/ Valuable/ Reify/ Plethoric/ Story

اگر ان لفجون مے ہر حرف کو انگریجی حرف تہجیبی کے اگلے حرف سے بدلہ جائے تو صرف یک واول والے کتنے لفج ہونگے؟

A.एक
A.One
A. ایک

B.दोन
B.Two
B. دو.

C.तीन
C.Three
C. تین.

- D. चार
D. Four
D. چار

Answer: C. तीन
C. Three
C. تین

41 DIRECTIONS: A sentence with an underlined word is given below. Find the Word which is most similar in meaning to the underlined word.
Shalini revealed her benevolent side when she offered to help Cynthia with her homework.

- A. Generous
B. Selfish
C. Cruel
D. Unkind

Answer: A. Generous

42 सामान्य बुद्धी क्षमतेची समुह चाचणी यांच्याद्वारे सांगितली गेली
Group test of general mental ability was given by
:گروپ ٹسٹ برائے عام دماغی لیاقت انجام پایا بذریعہ

- A. एस. जलोटा
A.S. Jalota
A. ایس۔ جلوٹا
B. उदय शंकर
B. Uday Shankar
B. اُدے شنکر
C. एस.के. कुलश्रेष्ठ
C.S.K. Kulshreshtha
C. ایس۔ کے کُلسریشٹھا
D. एम.सी. जोशी
D.M.C. Joshi
D. ایم۔ سی۔ جوशी

B. (B)

C. (C)

D. (D)

Answer: D. (D)

45 AP 5, 9, 13, 17, ... च्या कोणत्या अनुक्रमाचे पद 81 आहे?

Which term of the A.P. 5, 9, 13, 17, ... is 81?

5, 9, 13, 17, ... 81 कस सर्ज की कونسि ठर्म हे?

A.14

A.14

A.14

B.16

B.16

B.16

C.18

C.18

C.18

D.20

D.20

D.20

Answer: D.20

D.20

D.20

46 9 आणि 12 चे तृतीय गुणोत्तर आहे:

Third proportional to 9 and 12 is

9 اور 12 का तिसरा नसिती कया हे? 9

A.6

A.6

A.6

B.10
B.10
B.10

C.16
C.16
C.16

D.5
D.5
D.5

Answer: C.16
C.16
C.16

47 निर्देश: खालील प्रश्नांमध्ये प्रश्न चिन्हाच्या (?) जागी कोणते अंदाजे मूल्य यायला हवे? (तुम्ही अचूक मूल्य काढण्याचे अपेक्षित नाही).

DIRECTIONS: What approximate value should come in place of the question mark (?) in the following questions? (You are not expected to calculate the exact value)

ہدایات: مندرجہ ذیل سوال میں سوال کا نشان (?) کی جگہ پر کون سا تخمینہ ویلیو آنے کا -
(آپ کو صحیح ویلیو نکالنے کی ضرورت نہیں ہے)

$$\sqrt{3697} + 0.15 \times 78 = ?$$

A. 72
B. 68
C. 75
D. 60

Answer: A. 72

निर्देश: मालिका पूर्ण करा

E, H, K, N, Q, ?, W, Z

DIRECTION: Complete the series

E, H, K, N, Q, ?, W, Z

ہدایت اس سرچ کو مکمل کرو

E, H, K, N, Q, ?, W, Z

A.T

A.T

A.T

B.N

B.N

B.N

C.O

C.O

C.O

D.V

D.V

D.V

Answer:

A.T

A.T

A.T

सूचना: या प्रश्नांमध्ये पर्याय A आणि B यांच्या सहित दोन विधाने दिलेली आहेत. जरी सामान्यपणे माहीत असलेल्या तथ्यांबरोबर जुळत नसले तरी खालील विधाने बरोबर आहेत असे समजून तुमचे योग्य उत्तर लिहा:

सर्व P's , Q's आहेत.

सर्व Q's , R's आहेत. म्हणून,

A: सर्व P's , R's आहेत.

B: सर्व R's , P's आहेत.

DIRECTION: In these questions, two statements are given, followed by two inferences A and B. Assume the statements to be true even if they are at variance with the known facts and then mark your answer as:

All P's are Q's.

All Q's are R's. So,

A: All P's are R's.

B: All R's are P's.

दिए गئے ہیں۔ بیانات کے درست ہونے کو تسلیم کریں B اور A ہدایت: ان سوالات میں، دو بیانات دیے گئے ہیں، جن کے بعد دو تجاویز دیے گئے ہیں۔ بیانات کے درست ہونے کو تسلیم کریں B اور A ہدایت: ان سوالات میں، دو بیانات دیے گئے ہیں، جن کے بعد دو تجاویز دیے گئے ہیں۔ بیانات کے درست ہونے کو تسلیم کریں B اور A ہدایت: ان سوالات میں، دو بیانات دیے گئے ہیں، جن کے بعد دو تجاویز دیے گئے ہیں۔

ہیں۔ Q ، P سبھی

ہیں۔ لہذا Q ، R سبھی

A: ہیں۔ R ، P سبھی

B: ہیں۔ P ، R سبھی

A. जर केवळ पर्याय (A) असल्यास.

A.If only inference (A) follows

A. پیروی کرتا ہے۔ (A) صرف تجویز.

B. जर केवळ पर्याय (B) असल्यास.

B.If only inference (B) follows

B. پیروی کرتا ہے۔ (B) صرف تجویز.

C. जर दोन्ही पर्याय (A) आणि (B) असल्यास.

C.If both (A) and (B) follow

C. (A) اور (B) دونوں پیروی کرتے ہیں۔

D. जर दोन्ही पर्याय (A) आणि (B) नसल्यास.

D.If neither (A) nor (B) follows

D. پیروی کرتے ہیں۔ (B) نہ ہی (A) نہ تو.

Answer: A. जर केवळ पर्याय (A) असल्यास.

A.If only inference (A) follows

A. پیروی کرتا ہے۔ (A) صرف تجویز.

50

खालीलपैकी शुद्ध वाक्य कोणते ?

- A.सभेत उठून येण्यास अधिकार त्याने राखून ठेवला.
B.सभेला उठून येण्यास अधिकार त्याने राखून ठेवला.
C.सभेमध्ये उठून येण्याचा अधिकार त्याने राखून ठेवला.
D.सभेतून उठून येण्याचा अधिकार त्याने राखून ठेवला.

Answer:

D.सभेतून उठून येण्याचा अधिकार त्याने राखून ठेवला.

51

ल्युईस कॅरोल यांचे एक लोकप्रिय पुस्तक आहे

Lewis Carol's one of the famous book is

لیوس کیروول کی سب سے ایک مشہور کتاب ہے

- A.अॅलिस इन वंडरलँड
A.Alice in wonderland
A.ایلس ان ونڈرلینڈ
- B.गुडनाईट मून
B.Goodnight Moon
B.گڈ नाईट मून
- C.फेअरी टेल्स
C.Fairy tales
C.فیئری ٹیلस
- D.द कॅट इन द हॅट
D.The Cat in the hat
D.دی کیٹ ان دی ہیٹ

Answer:

A.अॅलिस इन वंडरलँड
A.Alice in wonderland
A.ایلس ان ونڈرلینڈ

विद्यार्थ्यां मध्ये वर्गात पहिल्या बाकड्या बसण्यासाठी स्पर्धा असते, या समस्येवर मात करण्यासाठी आपण बसण्याच्या व्यवस्था करणार आहात. विद्यार्थ्यांना जागा वाटपाचा तर्क काय असेल?

Generally the students have throat-cut competition to sit on front benches in the class. To overcome this problem you will be making seating arrangements. What will be the rationale of seat allocation to the students?

عموما طالب علموں کو کلاس میں سامنے بیچ پر بیٹھنے کے لئے سخت مقابلہ ہوتا ہے. اس مسئلے پر قابو پانے کے لئے آپ بیٹھنے کے انتظامات کریں گے. طالب علموں کو نشست کی تخصیص کا کیا تناسب ہوگا؟

A. विद्यार्थ्यांची वय आणि उंची

A. The age and height of the students

A. طالب علموں کی عمر اور اونچائی.

B. मुलांशी वैयक्तिक संबंध

B. The personal relationship with the child

B. بچے کے ساتھ ذاتی تعلقات.

C. मुलांचा मानसिक स्तर

C. The mental level of the children

C. بچوں کی ذہنی سطح.

D. मुलाची आर्थिक आणि सामाजिक स्थिती

D. The economic and social status of the child.

D. بچے کی اقتصادی اور سماجی حیثیت.

Answer: A. विद्यार्थ्यांची वय आणि उंची

A. The age and height of the students

A. طالب علموں کی عمر اور اونچائی.

विधान:

गेल्या काही महिन्यांमध्ये सागरी किनारपट्टीतील अनेक लोक श्वसन रोगाचे ग्रस्त झाले आहेत.

कृतीचा कोर्स:

- I. प्रभावित व्यक्तींना वैद्यकीय मदत देण्यासाठी शासनाने त्वरीत आरोग्य व्यावसायिकांची एक टीम ताबडतोब पाठवावी.
- II. अशा रुग्णांना ग्रस्त असलेले लोक विशेष वॉर्डमध्ये ठेवले पाहिजेत आणि योग्य औषधे घेतल्या पाहिजेत.

Statement:

Many people in the coastal town have been suffering from respiratory diseases during past few months.

Course of actions:

- I. The Government should immediately send a team of health professionals to provide medical care to the affected people.
- II. The people suffering from such diseases should be kept in a special ward and put through proper medication.

بیان:

پچھلے چند ماہ کے دوران ساحلی قصبے کے بہت سے لوگ سانس کی بیماریوں میں مبتلا ہو رہے ہیں۔

لائحہ عمل:

- I - حکومت کو متاثرہ افراد کی طبی دیکھ بھال کے لیے فوراً میڈیکل پروفیشنلز کی ایک ٹیم بھیجنی چاہیے۔
- II - ایسی بیماریوں میں مبتلا افراد کو اسپیشل وارڈ میں رکھا جانا چاہیے اور مناسب دوائیں دی جانی چاہئیں۔

A. फक्त I अनुसरून आहे.

A. Only I follows

A. لاگو ہو گا. I صرف

B. फक्त II अनुसरण करते आहे

B. Only II follows

B. لاگو ہو گا. II صرف

C. एकतर I किंवा II अनुसरून आहे

C. Both I and II follow

C. میں سے ایک لاگو ہو گا. II یا I

D. I किंवा II दोन्हीपैकी काहीही अनुसरण करत नाही

D. Neither I nor II follows

D. میں سے کوئی بھی لاگو نہیں ہو گا. II اور I

Answer: C. एकतर I किंवा II अनुसरून आहे

C. Both I and II follow

C. میں سے ایک لاگو ہو گا. II या I

एका घनाकृतीच्या तीन अवस्था दाखविल्या आहेत. त्यांवर अवलंबून हे शोधून काढा की दिलेल्या घनाकृतीमध्ये 6 या अंकाच्या विरुद्ध बाजूला कोणता अंक असेल?

Three positions of a cube are given. Based on them, find out, which number is found opposite number 6 in a given cube?

ہدایات: ایک کیوب کی تین حالتیں دی گئی ہیں۔ ان کی بنیاد پر، دریافت کیجیے، کونسا نمبر کیوب میں دیئے گئے 6 نمبر کی اپوسٹ ہے؟



A. 3

B. 5

C. 1

D. 6

Answer: A. 3

भारताचे अल्पसंख्याक व्यवहार मंत्री कोण आहेत?

Who is the Minister of Minority Affairs for India?

بھارت کے وزیر اقلیتی امور ہیں۔

A. पीयूष गोयल
A.Piyush Goyal
A. پیوش گوہل

B. प्रकाश जावडेकर
B.Prakash Javdekar
B. प्रकाश जावडेकर

C. मुख्तार अब्बास नकी
C.Mukhtar Abbas Naqvi
C. مختار عباس نقوی

D. धर्मेंद्र प्रधान
D.Dharmendra Pradhan
D. دھرمیندر پٹھان

Answer: C. मुख्तार अब्बास नकी
C.Mukhtar Abbas Naqvi
C. مختار عباس نقوی

शिक्षकांना वर्गाचा नेता असे म्हणतात. या टोपणनावचे समर्थन हे आहे

The teacher is called the leader of the class. The justification of this nickname is—

—اساتذہ کو کلاس کا رہنما کہا جاتا ہے. اس عرفیت کی وضاحت یہ ہے

A. कारण राजकीय नेत्यासारखे वक्तृत्व कलात्मकतेचे ते स्वामी आहेत

A. Because he masters the art of oratory like a political leader

A. کیونکہ اس نے ایک سیاسی رہنما کی طرح اوریٹری کے فن میں مہارت حاصل کی ہے

B. तो आपल्या वर्गाचा निश्चयी साम्राज्य आहे म्हणून

B. Because he is the autocratic emperor of his class

B. کیونکہ وہ اپنی कلاس का خود مختار شہنشاہ ہے

C. कारण तो शिक्षकांच्या संघाशी संबंधित आहे

C. Because he belongs to recognized teacher's union

C. کیونکہ وہ معروف ٹیچر کے اتحاد سے تعلق رکھتے ہیں

D. एखाद्या विशिष्ट विषय / संकल्पना / कला बदल विद्यार्थ्यांच्या मानसिकतेला आकार देण्याची त्यांची शक्ती असल्यामुळे

D. Because he has the power to shape the student's mentality about a particular subject/concept/art.

D. کیونکہ اس کے पास ایک خاص موضوع / تصور / فن کے بارے میں طالب علم کی ذہनیت کو تبدیل کرنے کی طاقت ہے.

Answer: D. एखाद्या विशिष्ट विषय / संकल्पना / कला बदल विद्यार्थ्यांच्या मानसिकतेला आकार देण्याची त्यांची शक्ती असल्यामुळे

D. Because he has the power to shape the student's mentality about a particular subject/concept/art.

D. کیونکہ اس کے पास ایک خاص موضوع / تصور / فن کے بارے میں طالب علم کی ذہनیت کو تبدیل کرنے کی طاقت ہے.

केरळची सायलेंट दरी —

The Silent valley of Kerala —

किराले की خاموش वادی

A. भारतातील केवळ एक एव्हरग्रीन जंगल आहे

A. Is only Evergreen Forest in India

A. भारत का واحد सदा बहार जंगल है

B. महागड्या बांधकाम लाकडाची झाडे आहेत

B. Has trees of expensive construction wood

B. महंगी عمارتی لकڑی کے درخت ہیں

C. सहलीचा स्पॉट म्हणून प्रसिद्ध आहे

C. Is famous for picnic spot

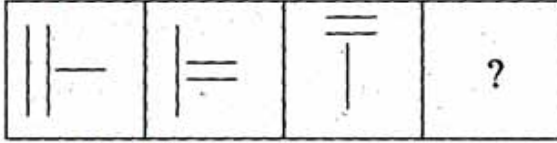
C. पिकनिक की जगہ के लिये مشहूर है

D.वनस्पती आणि प्राण्यांच्या दुर्मिळ प्रजाती आहे
D.Has rare species of Flora and Fauna
D. پودوں اور فونا کی کئی نسلیں ہیں

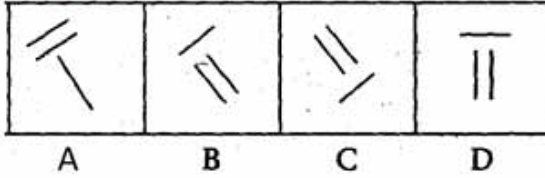
Answer: D.वनस्पती आणि प्राण्यांच्या दुर्मिळ प्रजाती आहे
D.Has rare species of Flora and Fauna
D. پودوں اور فونا کی کئی نسلیں ہیں

58 प्रश्न चिन्हाच्या (?) जागी योग्य ठरणारी आकृती अंकांनी दर्शविलेल्या चार आकृतीमधून शोधून काढा.
Choose an appropriate figure from the four numbered figures for the place of the questions mark (?).
نشان لکی چار شکلوں میں سے، مناسب شکل کا انتخاب کر کے اسے سوالی نشان کی جگہ رکھنے کے لئے

प्रश्न आकृती
Problem Figure
सوالی شکل



उत्तरासाठी पर्यायी आकृत्या
Answer Figure
जवाबी شکل



- A. (A)
B. (B)
C. (C)
D. (D)

Answer: D. (D)

59

गुणाकार करा:
5674 × 352 = ?

Multiply:
5674 × 352 = ?

ضرب دیں:
5674 × 352 = ?

A.1654221
A.1654221
A.1654221

B.1789221
B.1789221
B.1789221

C.2666118
C.2666118
C.2666118

D.1997248
D.1997248
D.1997248

Answer:

D.1997248
D.1997248
D.1997248

60

मूल कोणत्या टप्प्यात आत्म-केंद्रीत दिसतं

Child looks self-centered in which stage

بچه کس مرحلہ میں خود پرست نظر آتا ہے

A. सुरुवातीचे बालपण
A.Early childhood
A. ابتدائی بچپن

B. कुमारवय
B.Adolescent
B. سن بلوغیت

C. वयात येण्याचा मधला टप्पा
C.Middle adulthood
C. وسط بچपन

- D.अर्भकावस्थ
D.infancy
D.शिरखारگی.

Answer:

- A.सुरुवातीचे बालपण
A.Early childhood
A.अबंदानी बचपन.

61

भारताचे राष्ट्रगीत यांनी लिहिली

India's national song was written by –

भारत का कृमी कृनलत कसने लकहा तहा?

- A.बंकलम चंद्र चटुपाध्याय
A.Bankim Chandra Chattopadhyay
A.बनकम चंनर चठुया देहलाने.

- B.रवींनरनाथ टागुर
B.Rabindranath Tagore
B.रुवलनर नातुह ठुलगर.

- C.ईश्वर चंद्र वलद्यासागर
C.Ishwar Chandra Vidyasagr
C.अलशुर चंनर वुदेहलसलगर.

- D.यांपैकी कुणतुही नाही
D.None of these
D.अनमल सल कुनी नललन.

Answer:

- A.बंकलम चंद्र चटुपाध्याय
A.Bankim Chandra Chattopadhyay
A.बनकम चंनर चठुया देहलाने.

62

एखलदे मूल आपले उदरनलरवलह सलठी अरुधवलळ नुकरी करलत आहे, कृयामुळे तु कलही वरुग चुकवणुयास भाग पडला तुया वलद्यारुथुलाला आपण कलया सल्ला दाल ?

A child is doing part-time job to earn his livelihood. But it has forced him to miss some classes unwillingly. What suggestion will you put forth in that student's favor?

बचु अलने मलकलशत कु कमाने के लुने कृ वुकुतु कलम कृरुना हे. अलकन अस ने असे मकुरुर कृरु देलल हे कल वु ककृ कलसुन कु नल चलबुते हुने कृहुळ दे. आप अस डललब अलम के कृ मल कृलल मशुरल देल कृ?

A.अधिक पैसे कमविण्यासाठी शाळेला सोडणे चांगले

A.It is better to leave the school in order to earn more money

A.زیادہ سے زیادہ پیسہ کمانے کے لئے سکول کو چھوڑ دینا بہتر ہے

B.कोर्ससह सुसज्ज होण्यासाठी आपल्या शिकवणीच्या वर्गामध्ये सामील होणे

B.Better to join your tuition classes to equip with the course

B.کورس کے ساتھ مزید آلات شامل کرنے کے لئے آپ ٹیوشن کلاس میں شامل ہوتے ہیں.

C.नियमित अनुपस्थितीबद्दल प्रिन्सिपलमध्ये अहवाल देणे

C.Reporting to the principal about regular absence

C.مسلسل غیر حاضری کے بارے میں پرنسپل کو اطلاع

D.वरीलपैकी काहीही नाही

D.None of the above

D.اوپر سے کوئی بھی نہیں

Answer: D.वरीलपैकी काहीही नाही

D.None of the above

D.اوپر سے کوئی بھی نہیں

63

Fill in the blank with the correct article.

She plays_____ violin with great expression .

A.the

B.a

C.an

D.No article required

Answer:

A.the

64

मार्क झुकरबर्ग हे _____चे संस्थापक आहे

Mark Zuckerberg is the founder of –

मार्क झुकरबर्ग نے निवृत्त

A.गुगल

A.Google

A.गुगल کی

B.मायक्रोसॉफ्ट
B.Microsoft
B.مائکرو سافٹ کی

C.فیسبुक
C.Facebook
C.فیس بک کی

D.یوٹیوب
D.YouTube
D.یوٹیوب کی

Answer: C.فیسبुक
C.Facebook
C.فیس بک کی

65 सूचना: दिलेल्या पर्यायामधून वेगळे ते बाहेर काढा.

DIRECTIONS: Find the odd one out from the given alternatives.

سمت: دیے گئے متبادل میں سے بے جوڑ کو تلاش کرو۔

A.HEWAT
A.HEWAT
A.HEWAT

B.CERI
B.CERI
B.CERI

C.ROWAJ
C.ROWAJ
C.ROWAJ

D.EECRALS
D.EECRALS
D.EECRALS

Answer: D.EECRALS
D.EECRALS
D.EECRALS

जर एखाधा विद्यार्थ्याने आपल्या काळात बेशुद्ध होतो, तर तुम्ही काय कराल?

If a student becomes unconscious during the period, what will you like to do?

اگر سبق کے دوران کوئی طالب علم بے ہوش ہو تو، آپ کیا کرنا پسند کریں گے؟

A.घाईघाईने प्राचार्य कार्यालया कडे धाव घेणार आणि अधीरतेने मदतीसाठी विचारणार
A.Hurriedly rushing to the principal's office and canvassing for help impatiently

A.جلدی سے پرنسپل آفس جاتے ہیں اور فوری مدد کے لئے اقدامات کریں گے.

B.विद्यार्थ्याला प्राथमिक उपचार देऊन शाळेच्या डॉक्टरांशी संपर्क साधण्याचा प्रयत्न कराल

B.Giving first aid to the student and try to contact the school's doctor

B.طالب علم کو ابتدائی امداد دینا اور اسکول کے ڈاکٹر سے رابطہ کرنے کی کوشش.

C.विद्यार्थ्याच्या घरी संदेश पाठवणार आणि त्याच्या पालकांना वाट पाहणार

C.Sending message to student's home and awaiting for his parents

C.طالب علم کے گھر پر پیغام بھیج کر اسکے والدین کا انتظار.

D.विद्यार्थ्याला त्याच्या घरी पाठविण्याची व्यवस्था करणार

D.Making arrangements to send the student to his home.

D.طالب علم کو اپنے گھر بھیجنے کے لئے انتظامات کرنا.

Answer: B.विद्यार्थ्याला प्राथमिक उपचार देऊन शाळेच्या डॉक्टरांशी संपर्क साधण्याचा प्रयत्न कराल

B.Giving first aid to the student and try to contact the school's doctor

B.طالب علم کو ابتدائی امداد دینا اور اسکول کے ڈاکٹر سے رابطہ کرنے کی کوشش.

निर्देश: खालीदिलेल्या अक्षराच्या क्रमात काही अक्षरे गहाळ केली आहेत ते त्या क्रमाने खाली दिलेल्या पर्यायांपैकी एक आहे

a _ bc _ b _ ac _ a _ cb _

DIRECTIONS: In each of the following letter series, some of the letters are missing which are given in that order as one of the alternatives below it.

a _ bc _ b _ ac _ a _ cb _

दाيت جيل के حرف सर्ज में कोئی حرف گمشده ہے آپکو انکی شناخت جیل کے اختیارات سے کرنی ہے

a _ bc _ b _ ac _ a _ cb _

A.abcabc

A.abcabc

A.abcabc

B.ababc

B.ababc

B.ababc

C.abcab
C.abcab
C.abcab

D.acbcab
D.acbcab
D.acbcab

Answer: D.acbcab
D.acbcab
D.acbcab

68 'विषन्न' या शब्दाचा विरुद्धार्थी शब्द कोणता ?

A.खिन्न

B.उदास

C.विषबाधा

D.प्रसन्न

Answer: D.प्रसन्न

69 ओढ (मेनिया) मध्ये खालीलपैकी एक वगळता सर्व आढळते

Mania shows all of the below except one

جنون میں درج ذیل سبھی نظرآتا ہے سوائے ایک

A.हर्षातिरेक

A.Euphoria

A.بشاشت

B.विनोद

B.Humor

B.مزاح

C.अति चळवळ

C.Hyperactivity

C.تیز رفتاری

D.विचारविषयक विकार

D.Thought disorder

D.سوچ کی خرابی

Answer: B.विनोद
B.Humor
B.مزاح

70 पुढील संख्या संचाची सरासरी काय असेल?
67, 21, 23

What will be the average of the following set of numbers?
67, 21, 23

दुनूँे ढुँेँे अँेदद कद अुसुड ढुँेँे कद
67,21,23

A.31
A.31
A.31

B.39
B.39
B.39

C.45
C.45
C.45

D.37
D.37
D.37

Answer: D.37
D.37
D.37

71 Out of the given options, choose the one which is the correct indirect speech of the sentence given below.
They said, "we were enjoying the weather"

A.They say that they were enjoying the weather.

B.They say that they had enjoyed the weather.

C.They say that they have been enjoying the weather.

D.They said that they had been enjoying the weather.

Answer: D.They said that they had been enjoying the weather.

72 $25^{6251} + 36^{528} + 73^{54}$ पदावलीमधील एकक स्थानचा अंक?

The units digit of the expression $25^{6251} + 36^{528} + 73^{54}$ is?

$25^{6251} + 36^{528} + 73^{54}$ के पھیلانے میں میں یونٹ بندسہ ہے؟

A.6

A.6

A.6

B.5

B.5

B.5

C.4

C.4

C.4

D.0

D.0

D.0

Answer: D.0

D.0

D.0

सूचना: खालील प्रत्येक प्रश्नात, तीन विधाने दिली आहेत, ज्यांच्यानंतर चार निष्कर्ष आहेत ज्यांना I, II आणि III असे अंकित केले आहे. सर्वसामान्यपणे ज्ञात असलेल्या तथ्यांशी विसंगती असली तरीही, हे सत्य असल्याचे तात्पुरते मानून, सामान्यतः ज्ञात असलेल्या तथ्यांकडे दुर्लक्ष करून, दिलेल्या निष्कर्षांपैकी कोणती तर्कशुद्धपणे विधानांचे अनुसरण करतात ते ठरवा.

विधाने :

सर्व चारब्या चटया असतात.

काही चटया उंदीर असतात.

सर्व उंदीर मांजरी असतात.

निष्कर्ष:

I. काही चारब्या मांजरी असतात.

II. काही चटया मांजरी असतात.

III. काही उंदीर चारब्या असतात.

DIRECTION: In each of the following questions, three statements followed by four conclusions marked I, II, and III are given. Consider the statements to be true, even though they seem to be at variance with the commonly known facts and find out which of the given conclusion(s) logically follow(s) the statements, disregarding the commonly known facts.

Statements:

All fats are mats.

Some mats are rats.

All rats are cats

Conclusions:

I. Some fats are cats.

II. Some mats are cats.

III. Some rats are fats.

दिए गئے ہیں جن کے بعد چار نتائج دیے گئے ہیں۔ بیانات کے درست ہونے پر III اور I، II ہدایت: مندرجہ ذیل ہر سوال میں، تین بیانات غور کریں، اگرچہ وہ عام طور پر معلوم حقائق کے برعکس نظر آتے ہوں اور تلاش کریں کہ کون سے دیے گئے نتائج منطقی طور پر بیانات کی پیروی کرتے ہیں، عام طور پر معلوم حقائق سے قطع نظر۔

بیانات:

تمام چربی چٹائیاں ہیں۔

تمام چٹائیاں چوبے ہیں۔

تمام چوبے بلیاں ہیں

حل:

I. کچھ چربی بلیاں ہیں۔

II. کچھ چٹائیاں بلیاں ہیں۔

III. کچھ چوبے چربی ہیں۔

A. केवळ निष्कर्ष I निघत असल्यास.

A. Only I follows

A. پیروی کرتا ہے I صرف

B. केवळ निष्कर्ष II निघत असल्यास.

B. Only II follows

B. پیروی کرتا ہے II صرف

C.केवळ निष्कर्ष III निघत असल्यास.

C.Only III follows

C.पिरी कर्ता है III सिर्फ

D.दोन्ही निष्कर्ष I आणि II निघत असल्यास.

D.Both I and II follow

D.I और II हैं पिरी कर्ते हैं

Answer: B.केवळ निष्कर्ष II निघत असल्यास.

B.Only II follows

B.पिरी कर्ता है II सिर्फ

74

निर्देश: दिलेल्या अंक मालिकेतील चुकीची संज्ञा शोधा:

48, 24, 72, 34, 108, 54

DIRECTIONS: Find the wrong term in the given number series:

48, 24, 72, 34, 108, 54

बुदायत दे के नुडरस सरु म् गलु नुडर कुहुजे

48, 24, 72, 34, 108, 54

A.54

A.54

A.54

B.34

B.34

B.34

C.72

C.72

C.72

D.108

D.108

D.108

Answer:

B.34

B.34

B.34

B.25 मी/सेकंद
B.25 m/s
B.25 میٹر / سیکنڈ

C.20 मी/सेकंद
C.20 m/s
C.20 میٹر / سیکنڈ

D.निश्चित करता येत नाही
D.Can't be determined
D.معلوم نہیں ہو سکتا.

Answer: A.15 मी/सेकंद
A.15 m/s
A.15 میٹر / سیکنڈ

सूचना: अर्थपूर्ण परिच्छेद निर्माण करण्यासाठी, खाली दिलेली (P), (Q), (R), (S) आणि (T) ही पाच वाक्ये योग्य अनुक्रमाने पुनर्रचना करा; त्यानंतर खालील प्रश्नांची उत्तर द्या. P. बाळ कृष्ण मूठभर धान्य पकडले आणि दरवाजाकडे पळाला परंतु सर्व धान्य खाली सांडले.

Q. लवकरच तिला जाणवले कि तिची फळांच्या टोपली रत्न आणि सोन्याने भरलेली आहे.

R. कृष्णाला काही फळे हवी होती, त्याने त्या स्त्रीकडे फळे मागितली परंतु तिने त्याबदल्यात मोबदला मागितला.

S. ते पाहून, फळविक्रेती स्त्री श्रीकृष्णाकडे मोहित झाली आणि त्याच्या मुठीत जे काय असेल त्याबदल्यात सर्व फळे त्याला दिली.

T. एकेदिवशी फळविक्रेती स्त्री कृष्णाच्या घराजवळून निघाली होती.

पुनर्रचना केल्यानंतर खालीलपैकी कोणते वाक्य दुसरे असेल?

DIRECTION: Rearrange the following five sentences (P), (Q), (R), (S) and (T) in the proper sequence to form a meaningful paragraph; then answer the questions given below them.

P. Baby Krishna grabbed a handful of grains and ran towards the door but all the grains fell in the way.

Q. Soon she realized that her fruit basket was full of jewels and gold.

R. Krishna wanted to have some fruit, he asked the lady for fruit but the lady demanded something in return.

S. On seeing this, the fruit lady was completely smitten by Lord Krishna and gave him all the fruits in exchange for whatever was in his hands.

T. Once a lady who was selling fruits was crossing Shri Krishna's house.

Which of the following should be the SECOND sentence after rearrangement?

کو با معنی پیرا بنانے کے لئے دوبارہ ترتیب دیجئے، پھر نیچے دے گئے سوالوں (T) اور (S)، (R)، (Q)، (P) ہدایات: ان پانچ جملوں کے جواب دیجئے

P. بچہ کرشنا نے مٹھی بر اناج اٹھایا اور دروازے کی طرف باگا لیکن تمام اناج راستے میں گر گیا.

Q. جلدی اسکو احساس ہوا کی اسکی پھولوں کی ٹوکری جوابرات اور سونے سے بری ہے.

R. کرشنا کو کچھ میوہ چاہیے، اسنے عورت سے میوے کے لئے کہا لیکن عورت نے اسکے بدلے کچھ مانگا.

S. بے دیکھ کر، میوے والی عورت دیوتا کرشنا سے بہت متاثر ہوئی اور اسے سارے میوے دے دے بدلے اسکے کہ جو اسکے ہاتھ میں تھا.

T. ایک بار ایک میوہ بچنے والی عورت شری کرشنا کے گھر سے گزری.

دوبارہ ترتیب دینے کے بعد کون سا جملہ دوسرا ہونا چاہیے؟

A.R

A.R

A.R

B.P

B.P

B.P

C.T

C.T

C.T

D.S

D.S

D.S

Answer: A.R
A.R
A.R

79 सूचना: खाली दिलेल्या विधान (A) आणि कारण (R) साठी, खालील पैकी योग्य पर्याय निवडा:

विधान (A): वनस्पतिशास्त्र प्राणी संबंधित आहे.

कारण (R): प्राण्यांचा अभ्यास बॉटनी म्हणून ओळखला जातो.

DIRECTION: For the Assertion (A) and Reason (R) given below, choose the correct alternative from the following:

Assertion (A): Botany is related to animals.

Reason (R): Study of animals is known as Botany.

उद्देश: निम्न दिलेल्या विधान (A) आणि कारण (R) साठी, खालील पैकी योग्य पर्याय निवडा:

विधान (A): - वनस्पतिशास्त्र प्राणी संबंधित आहे.

कारण (R): - प्राण्यांचा अभ्यास बॉटनी म्हणून ओळखला जातो.

A. दोन्ही (A) आणि (R) सत्य आहेत आणि (R) (A) च योग्य स्पष्टीकरण आहे

A.Both (A) and (R) are true and (R) is the correct explanation of(A)

A. (A) اور (R) दोन्ही सत्य ہیں आणि (R) (A) की درست وضاحت ہے

B.दोन्ही (A)आणि (R) खरे आहेत, परंतु (R) (A) च योग्य स्पष्टीकरण नाही

B.Both (A) and (R) are true, but (R) is not the correct explanation of (A)

B. (A) اور (R) दोन्ही सत्य ہیں, परंतु (R) (A) की درست وضاحت نہیں ہے

C.(A) सत्य आहे, परंतु (R) खोटे आहे

C.(A) is true, but (R) is false

C. (A) सत्य आहे, परंतु (R) खोटे आहे

D.दोन्ही (A) आणि (R) खोटे आहेत

D.Both (A) and (R) are false

D. (A) आणि (R) दोन्ही खोटे आहेत

Answer: D.दोन्ही (A) आणि (R) खोटे आहेत

D.Both (A) and (R) are false

D. (A) आणि (R) दोन्ही खोटे आहेत

आपण आपल्या वर्गामध्ये एक मॉनिटर निवडल्यास, या निवडीमध्ये आपल्याकडून कोणत्या मापदंडाचे अनुसरण केले जाईल?

If you select a monitor in your class, which criteria will be followed by you in this selection?

अगर आप अपनी क्लास में नंगरान का انتخاب करते हैं तो, आप इस انتخاب में कस म्बेयार की पीरुी करीं गे?

A. लोकशाही मूल्याच्या (निवडणूक माध्यमातून) आधारावर
A. On the basis of democratic ideals (Through election)
A. (जम्हुरी نظरियात की बनीयद पर) अन्तखाबत के डुरीये.

B. विद्यार्थ्यांची शारीरिक बनावटीच्या आधारावर
B. On the basis of physical make-up
B. जसमानी साखत की बनीयद पर.

C. वर्गामध्ये श्रेष्ठत्वाच्या आधारे
C. On the basis of superiority in the class
C. क्लास में अह्लीयत की बनीयद पर.

D. वैयक्तिक प्राधान्याच्या आधारावर
D. On the basis of personal preference.
D. डायी तरजिच की बनीयद पर.

Answer: A. लोकशाही मूल्याच्या (निवडणूक माध्यमातून) आधारावर
A. On the basis of democratic ideals (Through election)
A. (जम्हुरी نظरियात की बनीयद पर) अन्तखाबत के डुरीये.

81 राजेशची आई ही मीनाच्या वडिलांची एकुलती मुलगी आहे. मग मीनाचा पती आणि राजेश यांचे नाते काय?

Rajesh's mother is the only daughter of Meena's father. How is Meena's husband related to Rajesh?

राजेश की मां मीना के बाप की वाद बीठी है. मीना का शुबर का राजेश से क्या रश्ते है?

A. भाऊ
A. Brother
A. बहानी.

B. काका
B. Uncle
B. चचा.

C. वडील
C. Father
C. बाप.

D. आजोबा
D. Grandfather
D. دادا

Answer: C. वडील
C. Father
C. باپ

82 14 आठवडे 3 दिवसांना दिवसांमध्ये रूपांतरीत करा

Convert 14 weeks 3 days into days?

بفتمے 3 دن کو دنوں میں بدلیں؟ 14

A. 100 दिवस
A. 100 Days
A. 100 دن

B. 99 दिवस
B. 99 Days
B. 99 دن

C. 104 दिवस
C. 104 Days
C. 104 دن

D. 101 दिवस
D. 101 Days
D. 101 دن

Answer: D. 101 दिवस
D. 101 Days
D. 101 دن

83 Choose the word which is opposite in meaning to the given word.
BOISTEROUS

A. Peaceful

B. Noisy

C. Loud

D. Overexcited

Answer: A.Peaceful

84 जर पाण्यामधील घड्याळाची प्रतिमा 4:42 वेळ दर्शवत असेल, तर खरी वेळ काय आहे?

Water image of clock is showing time 4:42 what is the real time?

पानी में گھڑی کی تصویر سے وقت 4:42 دکھ رہا ہے تو اصل وقت کیا ہوا ہے؟

A.1:48

A.1:48

A.1:48

B.2:48

B.2:48

B.2:48

C.12:48

C.12:48

C.12:48

D.12:42

D.12:42

D.12:42

Answer: A.1:48

A.1:48

A.1:48

85 20 पक्षांच्या रांगेत पोपट उजवीकडून सहाव्या स्थानावर आहे आणि त्याच रांगेत कबुतर डावीकडून आठव्या स्थानावर आहे. तर रांगेत त्यांच्यामध्ये किती पक्षी आहेत ?

Parrot is sixth from the right end of a row of 20 birds and Pigeon is eighth from the left end in the same row. How many birds are there between them in the row?

پرندوں کی کنار میں طوطا دھانیں چھور سے چھٹھا ہے اور کبوتر اسی کنار کے بھانیں چھور میں آٹھوا ہے. کنار میں انکے درمیان 20 کتنے پرندے ہے؟

A.3

A.3

A.3

B.5

B.5

B.5

C.6
C.6
C.6

D.यापैकी नाही
D.None of these
D.ان میں سے کوئی نہیں.

Answer: C.6
C.6
C.6

86 असे म्हटले जाते की शिक्षकाने त्याच्या आदर्श वर्तनाने एक उदाहरण मांडले पाहिजे कारण
It is said that a teacher should set an example by his model behavior because—
— یہ کہا جاتا ہے کہ ایک استاد کو اپنے رویے کی مدد سے ایک مثال قائم کرنا چاہئے کیونکہ

A.विद्यार्थी त्याला उच्च आदर देतात
A.The students give him high respect
A.طالب علموں نے اسے اعلیٰ احترام دیا ہے.

B.ते मुलांचा नैतिक पाय मजबूत करतात
B.He makes solid foundation of moral values
B.وہ اخلاقی اقدار کی مضبوط بنیاد رکھتا ہے.

C.अध्यात्मिक 'गुरू' सारखे ते आपले अनुयायी विकसित करतात
C.He develops his large following as a spiritual 'Guru'.
C.وہ روحانی 'गुरु' के طور पर बڑी پیروی رکھتا ہے.

D.ते नोकरी-समाधान विकसित करतो
D.He develops job-satisfaction.
D.وہ نوکری کے اطمینان کو فروغ دیتا ہے.

Answer: B.ते मुलांचा नैतिक पाय मजबूत करतात
B.He makes solid foundation of moral values
B.وہ اخلاقی اقدار کی مضبوط بنیاد رکھتا ہے.

87 'घाटा' या शब्दाचा समानार्थी शब्द कोणता ?

A.लाभ

B.तोटा

C.नफा

D.फायदा

Answer:

B.तोटा

88 यापैकी कोणती आकृती मुले, मुली आणि विद्यार्थी यांच्या दरम्यानचे सर्वोत्तम नाते दर्शवते?

Which of the following diagrams indicates the best relation between Boys, Girls and Students ?

ذیل میں سے کونسی تصویر لڑکوں، لڑکیوں اور طلباء کے درمیان بہترین تعلقات کی نشاندہی کرتی ہے؟



Answer:



89 Out of the given four words only one is spelt correctly. Find the word that is correctly spelt.

A.Cemetery

B.Existance

C.Forseeable

D.Ecstaycy

Answer:

A.Cemetery

सूचना: खालील प्रश्नांमध्ये दिलेल्या पर्यायांमधून संबंधित अक्षर/शब्द/संख्या निवडा.

लेखक: पुस्तक: : ?

DIRECTIONS: In the following question, select the related letter/word/number from the given alternatives.

Writer: Book : : ?

سمت: مندرجہ ذیل سوال میں، دیے گئے متبادل سے متعلقہ حرف/لفظ/نمبر منتخب کریں۔

مصنف: کتاب: : ?

A.गवंडी : शिल्पकार
A.Mason : Architect
A.مستری : معمار

B.कविता : कथा
B.Poem : Story
B.نظم : کہانی

C.चेअर : फर्निचर
C.Chair : Furniture
C.کرسی : فرنیچر

D.रचनाकार : गीत
D.Composer : Song
D.موسیقار : گیت

Answer: D.रचनाकार : गीत
D.Composer : Song
D.موسیقار : گیت

पौगंडावस्था (Adolescence) हा शब्द या लॅटीन शब्दावरून आला आहे

Adolescence comes from a Latin word)

ایڈولسن لفظ لاطینی لفظ سے آیا ہے

A.adolescere
A.adolescere
A.adolescere

B.adoles
B.adoles
B.adoles

C.adoloscere
C.adoloscere
C.adoloscere

D.वरीलपैकी कोणतेही नाही
D.none of the above
D.درج بالا میں سے کوئی نہیں.

Answer: A.adolescere
A.adolescere
A.adolescere

92 मजकूर ओळीच्या सुरवातीला जाण्यासाठी दाबा-

To go to the beginning of a text line press—

ایک تحریری لائن کی شروعات میں جانے کے لئے _____ دبائیں۔

A.होम
A.Home
A.ہوم

B.पेज अप
B. Page up
B.پیج اپ

C.एन्टर
C. Enter
C.انٹر

D.यापैकी एकही नाही
D. None of these
D.ان میں سے کوئی بھی نہیں.

Answer: A.होम
A.Home
A.होम

93 सूचना: दिलेल्या पर्यायांमधून वेगळे ते बाहेर काढा.

DIRECTIONS: Find the odd one out from the given alternatives.

سمت: دیے گئے متبادل میں سے بے جوڑ کو تلاش کرو۔

A.शिल्पकला
A.Sculpture
A.مجسمہ

B.लोहार
B.Blacksmith
B.لوبار

C.सुतार
C.Carpenter
C.بڑھئی

D.शिल्पकार
D.Architect
D.معمار

Answer: D.शिल्पकार
D.Architect
D.معمار

Answer: A. फक्त II निष्कर्ष खरा आहे
A.Only conclusion II is true
A.درست ہے II صرف نتیجہ

95 सूचना: हे प्रश्न खालील माहितीवर आधारित आहेत.
पाच मुले - A, B, C, D आणि E हे रांग - I मध्ये उत्तर दिशेकडे तोंड करून बसलेली आहेत, आणि पाच मुली - P, Q, R, S आणि T - रांग - II मध्ये दक्षिण दिशेकडे तोंड करून बसलेल्या आहेत, ते त्याच क्रमाने असतील असे नाही. रांग - I मधील प्रत्येक मुलगा रांग - II च्या बरोबर एका मुली सामोर आहे. त्यांच्याबद्दल खालील माहिती दिलेली आहे.
A आणि त्या मुलाच्या दरम्यान फक्त दोन लोक बसतात जो Q च्या सामोर आहे, आही जो कोणत्याही शेवटाला बसलेला नाही. C हा B च्या तत्काळ डाव्या बाजूला आहे, परंतु ते दोघे E च्या समीप नाहीत. P त्या मुलाच्या समोर आहे जो D च्या तत्काळ उजवीकडे आहे. D हा Q च्या समोर बसलेला नाही. R त्या मुलीच्या डाव्या बाजूस आहे जी D च्या सामोर आहे. C हा D च्या सामोर नाही.
R च्या उजवीकडून दुसरा कोण बसतो?

DIRECTIONS: These questions are based on the following information.

Five boys – A, B, C, D and E – are sitting in row-I, facing North, and five girls – P, Q, R, S and T – are sitting in row-II facing South, not necessarily in the same order. Each boy in row - I is facing exactly one girl from row -II. The following information is known about them.

Only two persons sit between A and the boy who faces Q, who does not sit at any end. C is to the immediate left of B, but both of them are not adjacent to E. P is opposite the boy who is to the immediate right of D. D does not sit opposite Q. R is to the left of the girl who faces D. C does not face S.

Who sits second to the right of R?

ہدایات: یہ سوالات مندرجہ ذیل معلومات پر مبنی ہیں۔

A اور Q کے فوری B، C کا سامنا کرنے والے لڑکے کے درمیان صرف دو لوگ بیٹھے ہیں، جو کسی بھی سرے پر نہیں بیٹھا ہے۔ Q اور A کے D، Q کے فوری دائیں طرف ہے۔ D اس لڑکے کے بالمقابل ہے جو P کے بغل میں نہیں ہیں۔ E بائیں طرف ہے، لیکن وہ دونوں کے سامنے نہیں ہے۔ S، C کا سامنا کرنے والی لڑکی کے بائیں طرف بیٹھی ہے۔ D، R، C کے مقابل نہیں بیٹھا ہے۔ R کے دائیں سے دوسری جگہ کون بیٹھا ہے؟

A.P

A.P

A.P

B.Q

B.Q

B.Q

C.S

C.S

C.S

D.T

D.T

D.T

Answer: C.S
C.S
C.S

96 कोणते हि दोन विद्यार्थी एकसारखे नसतात ह्या लोकप्रिय म्हणी चा अर्थ आहे

It is popularly said that any two students are not alike. The meaning of this phrase is-

-یہ عام طور پر کہا گیا ہے کہ کوئی دو طالب علم ایک جیسے نہیں ہیں۔ اس قول کا مطلب یہ ہے

A. विद्यार्थ्यांची शारीरिक बनावट भिन्न आहे

A. The students differ in their physical make-up

A. طالب علموں کی جسمانی ساخت میں فرق ہے

B. विद्यार्थ्यांची मानसिकता भिन्न आहे

B. The students differ in their mental make-up

B. طالب علموں کی ذہنی حالت میں فرق ہے

C. विद्यार्थ्यांची कौटुंबिक आणि सामाजिक स्थितीत भिन्न आहे

C. The students differ in their familial and social status

C. طالب علم اپنے خاندانی اور سماجی حیثیت میں مختلف ہیں

D. वरील सर्व विधाने बरोबर आहेत

D. All the above statements are correct.

D. تمام اوپر بیانات درست ہیں

Answer: D. वरील सर्व विधाने बरोबर आहेत

D. All the above statements are correct.

D. تمام اوپر بیانات درست ہیں

सूचना: प्रत्येक प्रश्नाला एक प्रमुख विधानासोबत चार विधाने आहेत ज्यांच्याखाली A, B, C आणि D असे चार विधान आहेत. क्रमवार विधानांची जोडी निवडा ज्यामध्ये प्रथम विधान दुसऱ्या विधानाला सुचवते, आणि दोन्ही विधाने तर्किकदृष्ट्या प्रमुख विधानासोबत निगडित असेल.

जर मी टीव्ही बघितला, तर मी जेवत नाही.

- A. मी टीव्ही बघितला
- B. मी टीव्ही बघितला नाही
- C. मी जेवत नाही.
- D. मी जेवलो नाही.

DIRECTIONS: Each question has a main statement followed by four statements labelled A, B, C and D. Choose the ordered pair of statements, where the first statement implies the second, and the two statements are logically consistent with the main statement.

If I watch TV , I don't have food.

- A. I watched TV
- B. I did not watch TV
- C. I don't have food.
- D. I did not have food.

ہدایت: ہر سوال میں ایک جملہ ہے جس کے بعد چار جملے آئے، بی، سی اور ڈی کے نام سے دئے گئے ہیں اس میں منسلک جوڑیوں کو چنئے۔ جہاں پہلا جملہ دوسرے جملہ کی اور اشارہ کر رہا ہے اور دو جملے منطقی مرکزی بیان کے مطابق ہیں

میں ٹی وی دیکھتا ہوں تو میرے پاس کھانا نہیں ہوتا۔

- A- میں نے ٹی وی دیکھا
- B- میں نے ٹی وی نہیں دیکھا
- C- میرے پاس کھانا نہیں ہوتا
- D- میرے پاس کھانا نہیں تھا۔

A.AC

A.AC

A.AC

B.BC

B.BC

B.BC

C.DA

C.DA

C.DA

D.CD

D.CD

D.CD

Answer: A.AC
A.AC
A.AC

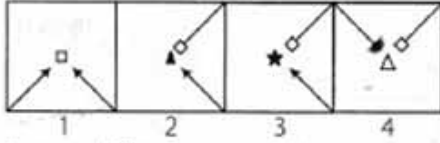
98

सूचना: दिलेल्या पर्यायांमधून श्रेणी पूर्ण करणारी योग्य आकृती निवडा.

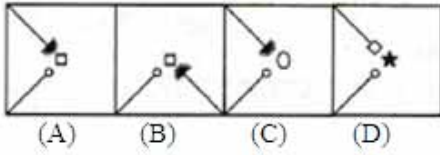
DIRECTIONS: Complete the series by choosing right figure from the given choices.

ہدایات: دیئے گئے اختیارات میں سے صحیح شکل کو چن کر سلسلہ کو مکمل کیجیئے

Problem Figures



Answer Figures



A. (A)

B. (B)

C. (C)

D. (D)

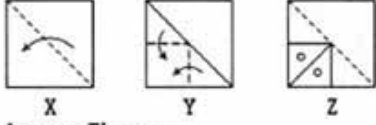
Answer: A. (A)

सूचना: खालील प्रश्नात कागदाच्या एक तुकड्याला प्रश्नातील आकृतीत दाखविल्याप्रमाणे घडी घातली आहे. उत्तरादाखल पर्यायांमधून अशी आकृती निवडा जी भोक पडल्यानंतर उलगडलेल्या कागदाचे स्वरूप दाखवेल.

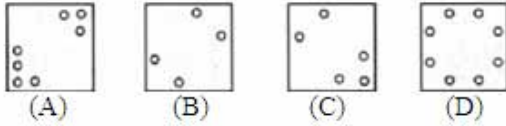
DIRECTIONS: In the following question a piece of paper is folded in the manner shown in the question figure(s). Select the figure out of the answer choices showing the unfolded pattern after the punches (cut).

ہدایات: نیچے دیئے گئے سوالوں میں کاغذ کا ایک ٹکڑا اس طرح جوڑا کیا ہے جیسے سوال کی شکل میں بتایا گیا ہے، دیئے گئے بدایات کے اختیارات میں سے اس طرح انتخاب کیجیئے کہ کٹ لگانے کے بعد بغیر جوڑا ہوا پینٹن دکھائی دے۔

Question Figures



Answer Figures



A. (A)

B. (B)

C. (C)

D. (D)

Answer: D. (D)

‘ए ट्रेन टु पाकिस्तान’ या पुस्तकाचे लेखक कोण आहेत?

Who is the author of the book ‘A Train to Pakistan’?

اے ٹرین تو پاکستان کے مصنف ہیں۔

A. खुशवंत सिंह

A. Khushwant Singh

A. خوشونت سنگھ

B. रघुराम राजन

B. Raghuram Rajan

B. रगु राम राजन

C. विक्रम सेठ

C. Vikram Seth

C. وکرم سیٹھ

D.चेतन भगत
D.Chetan Bhagat
D.چیتن بهگت

Answer: A.खुशवंत सिंह
A.Khushwant Singh
A.خوشوننت سنگھ

101 सूचना: दिलेल्या पर्यायांमधून वेगळे ते बाहेर काढा.

DIRECTIONS: Find the odd one out from the given alternatives.

سمت: دیے گئے متبادل میں سے بے جوڑ کو تلاش کرو۔

A.13
A.13
A.13

B.17
B.17
B.17

C.21
C.21
C.21

D.23
D.23
D.23

Answer: C.21
C.21
C.21

102 एका घनाला रंगवून 216 लहान आणि समान घनांमध्ये कापले गेले आहे.
तंतोतंतपणे रंगवलेले तीन चेहरे असलेले किती लहान घन आहेत?

A cube is painted and cut into 216 smaller and identical cubes by making the minimum possible number of cuts.

How many smaller cubes have exactly three painted faces?

ایک کیوب پینٹ کر کے کاٹا جائے اور اس کے 216 چھوٹے ایک جیسے ٹکڑے کر کے کیوبس بنائیں تو کتنے چھوٹے کیوبس حتمی طور پر ہوں گے جن کے تین منہ پینٹ کئے ہوئے ہوں؟

A.6
A.6
A.6

B.8
B.8
B.8

C.10
C.10
C.10

D.12
D.12
D.12

Answer: B.8
B.8
B.8

103 समजा एक शिक्षकाची उंची कमी आहे, जे त्याचा योग्य पद्धतीने ब्लॅक-बोर्ड वापरण्यात अडथळा निर्माण करते त्यामुळे विद्यार्थी शिक्षकानी अत्यंत चांगल्याला प्रमाणे दिलेले धडे घेत नाही, अशा परिस्थितीत आपण त्याला काय सुचविण्यास इच्छुक असणार ?

Suppose a teacher has short height. It creates an obstacle in utilizing the black-board in a justifiable manner. Therefore, the students can not follow the lessons in spite of utmost care taken by the teacher. In such a condition what would you like to suggest him?

فرض کریں کہ ایک استاد کا قد چھوٹا ہے۔ یہ صحیح طریقے سے تختہ سیاہ کے استعمال میں رکاوٹ پیدا کرتا ہے۔ لہذا، طالب علم استاد کی طرف سے کی جانے والی انتہائی دیکھ بھال کے باوجود سبق کے ساتھ نہیں چل سکتے۔ ایسی حالت میں آپ اس کو کیا مشورہ دیتے ہیں؟

A. चांगले आहे आपण आपल्या श्रमाचे आणि कपड्याचे धूळ कणा पासून जतन करू शकता

A. Good at least you can save your labor and clothes from dust particles

A. کم سے کم بہتر ہے کہ آپ اپنی محنت اور کپڑے دھول کے ذرات سے بچا سکتے ہیں۔

B. विद्यार्थ्यांच्या मदतीने विटा ठेऊन तात्पुरते व्यासपीठ बनवण्याचा सल्ला देणार

B. You suggest him to make a temporary platform of bricks with the help of students

B. آپ انہیں طالب علموں کی مدد سے اینٹوں کا عارضی پلیٹ فارم بنانے کا مشورہ دیتے ہیں۔

C. आपण त्याला प्राचार्या कडे तक्रार करण्यास सल्ला देणार

C. You suggest him to make a complaint with the principal

C. آپ اسے پرنसپल को شکایت کرنے का مشورہ दिते हैं।

D. फळा पुनर्रचना साठी त्यांच्या विद्यार्थ्यांकडून देणग्या गोळा करण्याचा सल्ला देणार

D. Collect donations from his student to reconstruct the black-board.

D. बलिक बोरड को दुबारा تعمیر करने के लिये अपने طالب علم से عطिये جمع करिये गे.

Answer: B.विद्यार्थ्यांच्या मदतीने विटा ठेऊन तात्पुरते व्यासपीठ बनवण्याचा सल्ला देणार
B.You suggest him to make a temporary platform of bricks with the help of students
آپ انہیں طالب علموں کی مدد سے اینٹوں کا عارضی پلیٹ فارم بنانے کا مشورہ دیتے ہیں۔

104 सूचना: खालील प्रश्नांमध्ये दिलेल्या पर्यायांमधून संबंधित अक्षर समूह निवडा.

BACE : DACE :: FACE : _____.

DIRECTIONS: In the following question, select the related group of letters from the given alternatives.

BACE : DACE :: FACE : _____.

سمت: مندرجہ ذیل سوال میں، دیے گئے متبادل میں سے حروف کا متعلقہ گروپ منتخب کریں۔

BACE : DACE :: FACE : _____.

A.HASE
A.HASE
A.HASE

B.LACE
B.LACE
B.LACE

C.CASE
C.CASE
C.CASE

D.HACE
D.HACE
D.HACE

Answer: D.HACE
D.HACE
D.HACE

105 खालीलपैकी सर्वांत लहान अपूर्णाक शोधा

Find the smallest of the following fractions

مندرجہ ذیل کسور میں سے سب سے چھوٹی کسر تلاش کریں

A.47/137
A.47/137
A.47/137

B.15/49
B.15/49
B.15/49

C.8/25
C.8/25
C.8/25

D.26/73
D.26/73
D.26/73

Answer: B.15/49
B.15/49
B.15/49

106 नैसर्गिक आपत्ती ज्यामध्ये कार्बन डाय ऑक्साइडचा खोल सरोवरापासून अचानक विस्फोट होतो त्याला म्हणतात....

The natural disaster in which carbon-di-oxide suddenly erupts from deep lake water is known as....

قدرتی تباہی جسمیں कार्बन डाय ऑक्साइड गہरे पانی के तालاب में سے ایکدم نکلتی ہے

A.लिम्निक
A.Limnic
A.लिम्निक

B.लकास्ट्राईन
B.Lacustrine
B.लिकास्ट्राईन

C.फलवियल
C.Fluvial
C.फ्लुवियल

D.हिमयुगीय
D.Glacial
D.ग्लेशियल

Answer: A.लिम्निक
A.Limnic
A.लिम्निक

107 जर तुम्हाला सामान्य विद्यार्थ्यांबरोबर अंध विद्यार्थ्याला शिकविण्याची संधी मिळेल तर तुम्ही त्याला कोणत्या प्रकारे वागणूक देऊ इच्छिता?

If you get an opportunity to teach a blind student along with normal students, what type of treatment would you like to give him in the class ?

اگر آپ کو اندھے طالب علموں کے ساتھ ساتھ عام طالب علموں کو سکھانے کا موقع ملتا ہے، تو آپ اس کلاس میں کس قسم کا معاملہ کرنا چاہتے ہیں؟

A. वर्गात सहानुभूतीपूर्वक त्याची काळजी घ्याल
A. Take care of him sympathetically in the class-room
A. कلاس रूम में ان کی ہمدردی کا خیال رکھیں.

B. पुढील पंक्तीतील आसन व्यवस्था करणार आणि त्याच्या शिकण्याचा गतिनुसार त्याचा शिक्षण घेण्याचा प्रयत्न कराल
B. Arranging a seat in the front row and try to keep teaching pace according to him
B. سامنے کی قطار میں ایک سیٹ کا اہتمام کرنا اور اس کے مطابق رفتار کو برقرار رکھنے کی کوشش کریں.

C. त्याचा मुळे बहुतेक मुलांचे नुकसान होत असल्यामुळे जास्त लक्ष देणार नाही
C. Not giving extra attention because majority suffers otherwise
C. اضافی توجہ نہیں دیتے کیونکہ اس صورت میں اکثریت کو برداشت کرنا पڑता ہے.

D. आपण असे विचार करणार की अंधत्व त्याच्या पापांचे परिणाम आहेत, आणि देवाच्या इच्छेविरुद्ध आपण काय करू शकतो?
D. You think that blindness is the result of his sins, so what can you do against God's will.
D. آپ سوچتے ہیں کہ اندھا پن ان کے گناہوں کا نتیجہ ہے، لہذا آپ خدا کی مرضی کے خلاف کیا کر سکتے ہیں.

Answer: B. पुढील पंक्तीतील आसन व्यवस्था करणार आणि त्याच्या शिकण्याचा गतिनुसार त्याचा शिक्षण घेण्याचा प्रयत्न कराल
B. Arranging a seat in the front row and try to keep teaching pace according to him
B. सामने की قطार میں ایک سیٹ का اہتمام کرنا اور اس کے مطابق رفتار کو برقرار رکھنے کی कوشش کریں.

108 अन्न साखळीमध्ये सर्वप्रथम कोण येतात?

Who comes first in the food chain?

कھाने की सिरिजमिں پہले कउन हुता है-

A. उत्पादक
A. Producers
A. बनाने वाले.

B. प्राथमिक ग्राहक
B. Primary consumer
B. प्रथम कन्सुमर.

C. विघटनकारी
C. Decomposers
C. गलाने वाले.

D.अपमार्जक
D.Scavengers
D.سڑا ہوا کھانا کھانے والے

Answer: A.उत्पादक
A.Producers
A.بنانے والے

109 DIRECTIONS: A sentence with an underlined phrasal verb is given below. Out of the four options, choose the one which can be substituted for the given phrasal Verb.
The government must hold down prices.

- A.soar
B.increase
C.inflate
D.control

Answer: D.control

110 गोलकोंडा किल्ला _____ मध्ये आहे

The Golconda Fort is in –

گولکنڈہ کا قلعہ ہے۔

- A.बेंगलुरू
A.Bengaluru
A.بنگلورو میں
B.सिकंदराबाद
B.Secunderabad
B.سکندرآباد میں
C.हैदराबाद
C.Hyderabad
C.حیدرآباد میں
D.अहमदनगर
D.Ahmednagar
D.احمدنگر میں

Answer:

C. हैदराबाद
C. Hyderabad
C. حیدرآباد میں

111

सुंदरबनच्या जंगलाला म्हणतात -

The Forest of Sundarban is called as-

सुंदरबन के जंगलों को जाना जाता है

A. थॉर्न अभयारण्य

A. Thorn forest

A. त्थारन जंगल

B. मॉनग्रोव्ह अभयारण्य

B. Mangrove forest

B. मिंगरो जंगल

C. डेसिड्युअस अभयारण्य

C. Deciduous forest

C. डिसिडुस जंगल

D. टुंड्रा

D. Tundra

D. तुंड्रा

Answer:

B. मॉनग्रोव्ह अभयारण्य

B. Mangrove forest

B. मिंगरो जंगल

सूचना: प्रत्येक प्रश्नाला एक प्रमुख विधानासोबत चार विधाने आहेत ज्यांच्याखाली A, B, C आणि D असे चार विधान आहेत. क्रमवार विधानांची जोडी निवडा ज्यामध्ये प्रथम विधान दुसऱ्या विधानाला सुचवते, आणि दोन्ही विधाने तर्किकदृष्ट्या प्रमुख विधानासोबत निगडित असेल.

ती कार्यालयात बसने किंवा रेल्वेने जाते

- A. ती कार्यालयात रेल्वेने जात नाही.
- B. ती कार्यालयात रेल्वेने जाते.
- C. ती कार्यालयात बसने जात नाही.
- D. ती कार्यालयात बसने जाते.

DIRECTIONS: Each question has a main statement followed by four statements labelled A, B, C and D. Choose the ordered pair of statements, where the first statement implies the second, and the two statements are logically consistent with the main statement.

She goes to office either by bus or by train

- A. She does not go to office by train
- B. She goes to office by train
- C. She does not go to office by bus
- D. She goes to office by bus

ہدایت: ہر سوال میں ایک جملہ ہے جس کے بعد چار جملے آئے، بی، سی اور ڈی کے نام سے دئے گئے ہیں اس میں منسلک جوڑیوں کو چنئے۔ جہاں پہلا جملہ دوسرے جملہ کی اور اشارہ کر رہا ہے اور دو جملے منطقی مرکزی بیان کے مطابق ہیں

وہ یا تو بس میں دفتر جاتی ہے یا ٹرین میں

- A - وہ ٹرین میں دفتر نہیں جاتی
- B - وہ ٹرین میں دفتر جاتی ہے
- C - وہ بس میں دفتر نہیں جاتی
- D - وہ بس میں دفتر جاتی ہے

A.AC

A.AC

A.AC

B.DA

B.DA

B.DA

C.CB

C.CB

C.CB

D.AB

D.AB

D.AB

Answer: B.DA
B.DA
B.DA

113 सूचना: खाली दिलेल्या प्रश्नात एक विधान आहे ज्याचे I आणि II असे दोन निष्कर्ष त्याखाली अंकित केलेले आहेत. या आधारे सर्वात योग्य पर्याय निवडा.

विधान:

निवडुंगाच्या बहुतेक वनस्पतींमध्ये पानांची कमतरता असते आणि अशा प्रकारे ते कमी पाण्यात जगू शकतात.

निष्कर्ष:

- I. निवडुंग हे वाळवंटी प्रदेशात उपयुक्त आहेत.
- II. निवडुंग हे वाळवंटी प्रदेशात उपयुक्त नाहीत.

DIRECTIONS: The question below has a statement followed by two conclusions numbered I and II. Based on this choose the option that is most suitable.

Statement:

Most of the cactus plants lack leaves and as such they can survive with little water.

Conclusions:

- I. Cactus are suited for desert environment.
- II. Cactus are not suited for desert environment.

दिए गئے ہیں۔ اس کی بنیاد پر انتہائی موزوں آپشن کا انتخاب کیجیے۔ II اور I ہدایات: نیچے دیے گئے سوال میں ایک بیان کے بعد دو نتائج

بیان:

زیادہ تر کیکٹس پودوں میں پتیوں کی کمی ہوتی ہے اور اس طرح وہ کم پانی پر گزارا کر سکتے ہیں

نتیجے:

- I. کیکٹس صحرائی ماحول کے لئے موزوں ہیں.
- II. کیکٹس صحرائی ماحول کے لئے موزوں نہیں ہیں.

A. केवळ निष्कर्ष क्रमांक I विधानास अनुसरून आहे

A. Only Conclusion I follows

A. لاگو ہو گا. I صرف نتیجہ.

B. केवळ निष्कर्ष क्रमांक II विधानास अनुसरून आहे

B. Only Conclusions II follows

B. لاگو ہو گا. II صرف نتیجہ.

C. निष्कर्ष क्रमांक I किंवा II अनुसरून आहे

C. Either I or II follows

C. I या II या میں سے एक لاگو ہو گا. II या I

D.कोणताही निष्कर्ष अनुसरून नाही

D.Neither I nor II follow

D. میں سے کوئی بھی لاگو نہیں ہو گا۔ II اور I

Answer: A.केवळ निष्कर्ष क्रमांक I विधानास अनुसरून आहे

A.Only Conclusion I follows

A. صرف نتیجہ I ہو گا۔

114 सूचना: खालील प्रश्नांमध्ये दिलेल्या पर्यायांमधून संबंधित अक्षर/शब्द/संख्या निवडा.

11 : 38 :: 13 : ?

DIRECTIONS: In the following question, select the related letter/word/number from the given alternatives.

11 : 38 :: 13 : ?

سمت: مندرجہ ذیل سوال میں، دیے گئے متبادل سے متعلقہ حرف/لفظ/نمبر منتخب کریں۔

11 : 38 :: 13 : ?

A.47

A.47

A.47

B.44

B.44

B.44

C.43

C.43

C.43

D.46

D.46

D.46

Answer: B.44

B.44

B.44

115 समजा तुमच्या वर्गाचा बुद्धिमान मुलगा आपल्याकडून एका विशिष्ट पुस्तकासाठी विनंती करतो. या प्रकरणात तुम्ही कोणता निर्णय घ्याल?

Suppose an intelligent boy of your class requests for a particular book from you. What decision will you take in this case?

فرض کریں کہ آپ کی کلاس کا ایک ذہین لڑکا آپ سے مخصوص کتاب کے لئے درخواست کرتا ہے. اس کیس میں آپ کا کیا فیصلہ ہوگا؟

A. पुस्तक तुमच्या कडे नाही असे खोटं सांगणे

A. Telling-a-lie that the book is not with you

A. یہ بتاتے ہیں کہ کتاب آپ کے پاس نہیں ہے.

B. त्याला पुस्तक देणे अन्य विद्यार्थ्यांचे त्या पुस्तकावर हक्क कमी करण्या समान आहे असा तर्क देणे

B. Giving a rationale that to help him is equal to curtail other students' rights on the same book

B. یہ دلیل देना کہ اس کی मदत کرنا اس کتاب के معاملے में दूसरे طلباء के حق تلفी के مترادف है.

C. काही कालावधीसाठी विद्यार्थ्याला ते पुस्तक देणे

C. Giving the book without any hitch for certain duration

C. مخصوص مدت के لئے اسے بلا جھक کتاب देना.

D. त्याला स्वतः साठी पुस्तक खरेदी करण्यास सूचना करणे

D. Suggest him to purchase it for himself.

D. اسے خود سے خریدने की تجویز देیں.

Answer: C. काही कालावधीसाठी विद्यार्थ्याला ते पुस्तक देणे

C. Giving the book without any hitch for certain duration

C. مخصوص مدت के لئے اسے بلا जھक کتاب देना.

116 निर्देश: खालील प्रश्नामध्ये प्रश्न चिन्हाच्या (?) जागी काय येईल?

$$98 \div 14 \times 49 - 294 = (?)^2$$

DIRECTIONS: What will come in place of the question mark (?) in the following question?

$$98 \div 14 \times 49 - 294 = (?)^2$$

निचे दئے ہوئے سوالات میں سوالیہ نشان (?) کی جگہ کیا آئیگا: ہدایت

$$98 \div 14 \times 49 - 294 = (?)^2$$

A. 14

A. 14

A. 14

B. 8

B. 8

B. 8

C.±7
C.±7
C.±7

D.196
D.196
D.196

Answer: C.±7
C.±7
C.±7

117

खालील दिलेल्या पर्यायातून गहाळ अंक शोधा.

Find out missing number from the following given options.

نیچے کے اختیارات سے کوئی نمبر کا جواب کہو جے۔



A. 40

B. 36

C. 39

D. 44

Answer: B. 36

118

कुणाचाही आधार नसलेला -

A.आधारहीन

B.निराधार

C.आधारवड

D.यापैकी सर्व

Answer: B.निराधार

गुंतागुंतीची नाती समजुन घेणे, आकस्मिक कारण आणि समस्या सोडवण्याच्या क्षमतेला म्हणतात:

Ability to perceive complex relationships, reason abstractly and solve problems can be called:

بیچیدہ رشتوں کو سمجھنے ، مجرد طور پر استدلال کرنے اور مسائل حل کرنے کی صلاحیت کو کہا جا سکتا ہے:

A. अस्थिर बुद्धिमत्ता
A. Fluid intelligence
A. سیال ذہانت

B. वैयक्तिक चाचणी
B. Individual test
B. انفرادی ٹیسٹ

C. बौद्धिक प्रतिभा
C. Intellectual giftedness
C. خداداد ذہانت

D. मानसिक वय
D. Mental age
D. دماغی عمر

Answer: A. अस्थिर बुद्धिमत्ता
A. Fluid intelligence
A. سیال ذہانت

सूचना : खालील प्रत्येक प्रश्नात दोन विधाने I आणि II दिलेले आहेत. हे विधान एकतर स्वतंत्र कारण असू शकतात किंवा स्वतंत्र कारणांचे परिणाम असू शकतात. यांपैकी एक विधान इतर विधानाचा परिणाम असू शकतो. दोन्ही विधाने वाचा आणि खालीलपैकी कोणत्या उत्तराचा पर्याय या दोन्ही विधानांमधील संबंधांचे वर्णन करतो ते ठरवा.

विधान :

- I. खाजगी शैक्षणिक संस्थांमार्फत आकारले जाणारे शुल्क वाढत आहे.
- II. शासकीय शैक्षणिक संस्थांमध्ये नावनोंदणी वाढत आहे.

DIRECTIONS: Below in each question are given two statements I and II. These statements may be either independent causes or may be effects of independent causes. One of these statements may be the effect of the other statement. Read both the statements and decide which of the following answer choice correctly depicts the relationship between these two statements.

Statements:

- I. The fee charged by private educational institutions is increasing.
- II. The enrolment in government educational institutions is increasing.

زاد وجوہات یا پھر آزاد وجوہات کے اثرات ہو سکتے ہیں۔ ان دیے گئے ہیں۔ یہ بیانات یا تو A اور I ہدایات: نیچے ہر سوال میں دو بیانات بیانات میں سے ایک بیان دوسرے کا اثر ہو سکتا ہے۔ دونوں بیانات پڑھیں اور فیصلہ کریں کہ نیچے دیے گئے کس جواب کا انتخاب ان دونوں بیانات کے درمیان تعلق کو ٹھیک سے ظاہر کرتا ہے۔

بیانات:

- I۔ پرائیویٹ تعلیمی اداروں کی فیس میں اضافہ ہو رہا ہے۔
- II۔ سرکاری تعلیمی اداروں میں داخلوں میں اضافہ ہو رہا ہے۔

A. विधान I कारण आहे आणि विधान II त्याचा परिणाम आहे;
A. Statement I is the cause and statement II is its effect;
A. اس کا اثر ہے۔ II وجہ ہے اور بیان نمبر I بیان نمبر.

B. विधान II कारण आहे आणि विधान I त्याचा परिणाम आहे;
B. Statement II is the cause and statement I is its effect;
B. اس का اثر ہے۔ I وجہ ہے اور بیان نمبر II بیان نمبر.

C. विधान I आणि II दोन्ही स्वतंत्र कारणे आहेत;
C. Both the statements I and II are independent causes;
C. آزاد وجوہات ہیں۔ II اور نمبر I دونوں بیانات نمبر.

D. विधान I आणि II दोन्ही स्वतंत्र कारणांचे परिणाम आहेत;
D. Both the statements I and II are effects of independent causes;
D. آزاد وجوہات کے اثرات ہیں۔ II اور نمبر I دونوں بیانات نمبر.

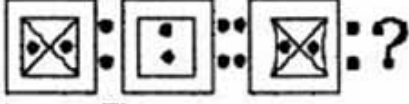
Answer: A. विधान I कारण आहे आणि विधान II त्याचा परिणाम आहे;
A. Statement I is the cause and statement II is its effect;
A. اس का اثر है۔ II وجہ है और بیان نمبر I بیان نمبر.

سूचना: خالیل پرشوات ديليليا پريايامدھون ناليسंबंध असणारी आकृती शोधून काढा.

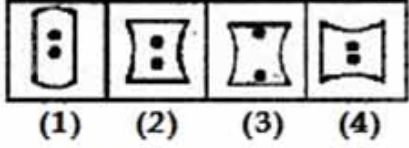
DIRECTIONS: In the question below, select the related figure from the given alternatives.

بدايات: نيچے ديے كے سوال ميں، ديے كے متبادلات ميں سے متعلق متبادل چنتے۔

Question Figures :



Answer Figures :



A. 1

B. 2

C. 3

D. 4

Answer: C. 3

122 _____ بھككم प्रतिक्रियांसाठी तत्परतेने आढळते

_____ occurs readily for strong responses

ٹھوس جواب (رسپونس) کے لیے _____ بڑی آسانی سے قائم ہوتی ہے۔

A. सामाजिक सुलभीकरण

A. Social facilitation

A. سماجی معاونت

B. सामाजिक आदर

B. Social respect

B. سماجی احترام

C. अनुकुलनियता

C. Adaptability

C. اہلیت

D. यापैकी एकही नाही

D. None of these

D. ان ميں سے کوئی نہیں

Answer:

A. सामाजिक सुलभीकरण

A. Social facilitation


A. سماجی معاونت

123

खालील आकृतीमध्ये किती आयत आहेत?

How many rectangles are there in the figure given below?

نیچے دی گئے شکل میں کتنے مثلث ہیں؟



A. 7

B. 8

C. 9

D. 12

Answer:

C. 9

124

प्रश्नासाठी सूचना: खालील मालिका पूर्ण करा.

KPD, LOE, MNF, NMG, _____

DIRECTION: Complete the following series.

KPD, LOE, MNF, NMG, _____

सवाल के لیے ہدایت: مندرجہ ذیل سیریز کو مکمل کریں۔

KPD, LOE, MNF, NMG _____

A. ONF

A. ONF

A. ONF

B. OLH

B. OLH

B. OLH

C.MLH
C.MLH
C.MLH

D.MNH
D.MNH
D.MNH

Answer: B.OLH
B.OLH
B.OLH

125 ' दमट ' या शब्दाचा समानार्थी शब्द कोणता ?

A.दमदाटी
B.कोरड
C.ओलसर
D.शुष्क

Answer: C.ओलसर

126 सूचना: खालील आकृतीचे प्रतिबिंब शोधून काढा.

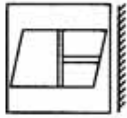
DIRECTIONS: Find the mirror image of the figure given below.

ہدایات: نیچے دیئے گئے شکل کی آئینہ معکوس شکل کیا ہوگی۔

मुख्य आकृती

Main Figure

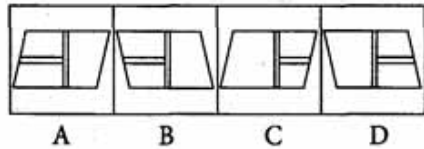
اصل شکل



उत्तरासाठी पर्यायी आकृत्या

Answer Figure

जोयी شکل



A. (A)

B. (B)

C. (C)

D. (D)

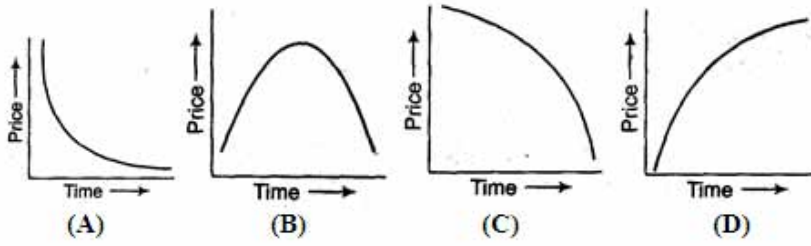
Answer: B. (B)

127

सध्या किमती वाढत आहेत. खालील पैकी कोणता आलेख ही परिस्थिती दर्शवितो?

These days, prices are rising. Which of the following graph shows this condition?

ان دنوں، قیمتیں بڑھ رہی ہیں۔ نیچے دیئے گئے گراف میں سے کونسا اس حالت کو دکھاتا ہے؟



A. (A)

B. (B)

C. (C)

D. (D)

Answer: D. (D)

128 जर एक पाईप A, टाकी 20 मिनिटांमध्ये भरू शकतो, जर A पेक्षा 20% क्षमता असलेले 5 पाईप, टाकी किती वेळात भरतील:

If one pipe A can fill a tank in 20 minutes then 5 pipes each of 20% efficiency of A, can fill the tank in:

کی 20% زیادہ کارکردگی کے مطابق ہیں، کتنا وقت لگائیں A ایک ٹینک کو 20 منٹ میں بھر سکتا ہے تو 5 پائپ جو A اگر ایک پائپ گے اس ٹینک کو بھر نے میں؟

A.80 मिनिट

A.80 minute

A.80 منٹ

B.100 मिनिट
B.100 minute
B.100منٹ

C.20 मिनिट
C.20 minute
C.20منٹ

D.25 मिनिट
D.25 minute
D.25منٹ

Answer: C.20 मिनिट
C.20 minute
C.20منٹ

129 जर एखादा विद्यार्थी आपल्या शिक्षकांशी आपली समस्या समजावून सांगू इच्छित असेल आणि तो घरी जाऊन आपल्या शिक्षकांना भेट देतो. अशा स्थितीत शिक्षकाने

If a student wants to share his problems with his teacher, he visits his teacher for the same at home. In such a condition the teacher should-

अगर ایک طالب علم اپنے استاد سے اپنی مشکلات का اشتراक करना चाहता है, तो वह इस सلسुले में अपने استاد के गहर का दुरे करता है. इस हालत में استاد को चाहें

A.उचित मदत द्यावे आणि त्याच्या मनोधैर्य वाढवावे
A.Extend reasonable help and boost his morale
A.मनासब मदद को बڑहाने और अ की हवसले अत्राने को बڑहाने

B.त्याला त्याच्या कुटुंबातून सुटका करण्याचे सुचवावे
B.Suggest him to escape from his family
B.असे अपने खानदान से फरार होने का मशुरे देयन

C.विद्यार्थ्यांच्या पालकांशी संपर्क साधावे आणि त्यांच्या समस्या सोडवावे
C.Contact the student's parents and solve his problem
C.طالب علم के والدین से رابطه करीन और इस का मसुले हल करीन

D.कधीही शिक्षकाच्या घरी जावू नये हे सल्ला देणे
D.Warn him, never visit his home.
D.असे खबरदार करो, कबेही बेही अपने गहर ने जाना.

Answer: A.उचित मदत द्यावे आणि त्याच्या मनोधैर्य वाढवावे
A.Extend reasonable help and boost his morale
A.मनासब मदद को बڑहाने और अ की हवसले अत्राने को बڑहाने

130 Out of the given options which best expresses the meaning of the given Proverb?
Birds of a feather flock together.

- A. Some people like to collect birds with colourful feathers
B. Birds that have colourful feathers are most beautiful
C. Beautiful birds are never found in groups
D. People like to spend time with those who are similar to them

Answer: D. People like to spend time with those who are similar to them

131 सूचना: दिलेल्या पर्यायांमधून ऍनालॉगस शब्द निवडा.

हरिणाचे जिराफाशी नाते आहे जसे कोल्ह्याचे ...सोबत आहे.

DIRECTIONS: Choose the analogous word from the given alternatives.

Deer is to Giraffe as Jackal is to _____.

हदाيات: دیے گئے متبادل سے مطابق لفظ کا انتخاب کریں

پرن کا رشتہ زرافہ کے ساتھ ویسا ہی ہے جیسا کہ گیدڑ کا ---- کے ساتھ

A. झेब्रा
A. Zebra
A. نیل گائے

B. घोडा
B. Horse
B. گھوڑے

C. चतुष्पाद
C. Antelope
C. مرگ

D. चिता
D. Cheetah
D. چیتا

Answer: D. चिता
D. Cheetah
D. چیتا

132 एका विशिष्ट सांकेतिक भाषेमध्ये, जर MINUTE हा शब्द NMWKSO असा कूटबद्ध केला जात असेल, REIGN साठी काय शब्द असेल?

In a certain code language, if the word MINUTE is coded as NMWKSO, then what is the code for the word REIGN?

کو کیا لکھا جائیگا؟ REIGN لکھا جاتا ہے، تو لفظ NMWKSO کو MINUTE ایک مخصوص ضابطے کی زبان میں، اگر لفظ

A.SIPVM

A.SIPVM

A.SIPVM

B.SLRVM

B.SLRVM

B.SLRVM

C.SIRTN

C.SIRTN

C.SIRTN

D.SIRWM

D.SIRWM

D.SIRWM

Answer: D.SIRWM

D.SIRWM

D.SIRWM

133 उडणाऱ्या पक्षींची शेपटी म्हणून कार्य करते:

The tails of flying birds act as:

: پرواز کرنے والے پرندوں کی دم काम آتی ہے

A.शरीराचा एक भाग जो सुंदर आहे

A.A part of the body which is beautiful

A. جسم का एक خوبصورت حصہ ہے۔

B.माश्या आणि डासांचे संरक्षण करणारा एक भाग

B.A part which wards off flies and mosquitoes

B. مکھیوں اور مچھروں کو بھگانے میں

C.उडाण करताना पक्ष्याला मार्गदर्शन करणारा एकभाग

C.A part which guides the bird while flying

C.-. جسم का एक حصہ जो پرندے की رہنمائی करता ہے۔

D.एक भाग जे पक्ष्याला झेप घेण्यास मदत करतो
D.A part which helps the bird take off
D. جسم का ایک حصہ پرندوں کو اترنے میں مدد کرتا

Answer: C.उडाण करताना पक्ष्याला मार्गदर्शन करणारा एकभाग
C.A part which guides the bird while flying
C.- جسم का ایک حصہ جو پرندے کی رہنمائی کرتا ہے

134 मुलांना आपल्या पालकांपासून विभक्त होतांना जास्त चिंता किंवा / आणि घाबरण्याचे कारण म्हणून ओळखले जाते-

Excessive anxiety or/and panic experienced by children at being separated from their parents is known as

ان کے والدین سے الگ ہونے والے بچے کی طرف سے بہت زیادہ تشویش یا / اور خوفناک تجربہ ہوتا ہے

A.एसएडी
A.SAD
A.SAD

B.एसडीए
B.SDA
B.SDA

C.एएसडी
C.ASD
C.ASD

D.एडीएसडी
D.ADSD
D.ADSD

Answer: A.एसएडी
A.SAD
A.SAD

135 एखाद्या मुलाला चित्त एकाग्र करणे जमत नसल्यास त्याला यांपासून दूर ठेवले पाहिजे

A child who is having lack of concentration he should be kept away from

ایک بچہ جس میں توجہ ارتکاز کی کمی ہے اسے دور رکھنا چاہئے ان سے

A.प्रक्रिया केलेले अन्नपदार्थ
A.Processed Foods
A.پروسیسڈ فوڈ

B.कच्चा भाजीपाला
B.Raw Vegetables
B.خام سبزیوں

C.फळे
C.Fruits
C.پھلوں

D.तृणधान्ये
D.Cereals
D.کھانے کے اناج

Answer: A.प्रक्रिया केलेले अन्नपदार्थ
A.Processed Foods
A.پروسیسڈ فوڈ

136 Out of the given four words only one is not spelt correctly. Find the word that is not correctly spelt.

A.Buisness
B.Discipline
C.Official
D.Opportunity

Answer: A.Buisness

137 जर 19 जुलै, 1904 रोजी मंगळवार असेल, तर 16 फेब्रुवारी, 2019 रोजी काय वार असेल?

If Tuesday fall on 19 July 2019, what will be the day of 16 Feb, 2019?

اگر 19 جولائی 2019 کو منگل پڑ رہا ہو، تو 16 فروری 2019 کو کونسا دن ہوگا؟

A.मंगळवार
A.Tuesday
A.منگل

B.बुधवार
B.Wednesday
B.بدھ

C.गुरूवार
C.Thursday
C.جمعرات

D.सोमवार
D.Monday
D. پير

Answer: D.सोमवार
D.Monday
D. پير

138 सूचना: हे प्रश्न खालील माहितीवर आधारित आहेत.
पाच मुले - A, B, C, D आणि E हे रांग - I मध्ये उत्तर दिशेकडे तोंड करून बसलेली आहेत, आणि पाच मुली - P, Q, R, S आणि T - रांग - II मध्ये दक्षिण दिशेकडे तोंड करून बसलेल्या आहेत, ते त्याच क्रमाने असतील असे नाही. रांग - I मधील प्रत्येक मुलगा रांग - II च्या बरोबर एका मुली सामोर आहे. त्यांच्याबद्दल खालील माहिती दिलेली आहे.
A आणि त्या मुलाच्या दरम्यान फक्त दोन लोक बसतात जो Q च्या सामोर आहे, आही जो कोणत्याही शेवटाला बसलेला नाही. C हा B च्या तत्काळ डाव्या बाजूला आहे, परंतु ते दोघे E च्या समीप नाहीत. P त्या मुलाच्या सामोर आहे जो D च्या तत्काळ उजवीकडे आहे. D हा Q च्या सामोर बसलेला नाही. R त्या मुलीच्या डाव्या बाजूस आहे जी D च्या सामोर आहे. C हा D च्या सामोर नाही.
खालीलपैकी कोणते विधान खरे आहे?

DIRECTIONS: These questions are based on the following information.

Five boys – A, B, C, D and E – are sitting in row-I, facing North, and five girls – P, Q, R, S and T – are sitting in row-II facing South, not necessarily in the same order. Each boy in row - I is facing exactly one girl from row -II. The following information is known about them.

Only two persons sit between A and the boy who faces Q, who does not sit at any end. C is to the immediate left of B, but both of them are not adjacent to E. P is opposite the boy who is to the immediate right of D. D does not sit opposite Q. R is to the left of the girl who faces D. C does not face S.

Which of the following statements is true?

ہدایات: یہ سوالات مندرجہ ذیل معلومات پر مبنی ہیں۔

A اور Q کے سامنا کرنے والے لڑکے کے درمیان صرف دو لوگ بیٹھے ہیں، جو کسی بھی سرے پر نہیں بیٹھا ہے۔ Q اور A کے D، Q کے فوری دائیں طرف ہے۔ D اس لڑکے کے بالمقابل ہے جو P کے بغل میں نہیں ہیں۔ E بائیں طرف ہے، لیکن وہ دونوں کے سامنے نہیں ہے۔ C، S کا سامنا کرنے والی لڑکی کے بائیں طرف بیٹھی ہے۔ D، R، C کے مقابل نہیں بیٹھا ہے۔ مندرجہ ذیل میں سے کون سا بیان درست ہے؟

A.P D च्या सामोर बसते
A.P sits opposite D
A.P, D के بالمقابل بیٹھی ہے

B.Q T च्या तत्काळ उजव्या बाजूला बसते
B.Q sits to the immediate right of T
B.Q, T के فوری دائیں طرف بیٹھا ہے

C.R A च्या सामोर बसते
C.R sits opposite A
C.R, A के بالمقابل بیٹھی ہے

D.S R आणि Q च्या बरोबर मध्ये बसते
D.S sits exactly between R and Q
D.S के दरम्यान بیٹھی ہے R اور Q ٹھیک

Answer: C.R A च्या सामोर बसते
C.R sits opposite A
C.R, A के بالمقابل بیٹھی ہے

139 निर्देश: खाली दिलेले प्रश्न वर्ण मालिकेवर आधारित आहेत. या प्रत्येक मालिकेत, काही अक्षरे गहाळ आहेत. योग्य पर्याय निवडा पाच पेक्षा अधिक अक्षरे गहाळ असल्यास, मालिकेतील शेवटचे पाच अक्षरे निवडा

pq- st- vw - y- a - c

DIRECTION: Questions given below are based on the letter series. In each of these series, some letters are missing. Select the correct alternative. If more than five letters are missing, select the last five letters of the series:

pq- st- vw - y- a - c

ہدایت نیچے دے کے سوالات حرف سرج پر مشتمل ہیں . ہر میں کہیں حرف گمشدہ ہے . سہی اختیارات کو چنے . اگر پچ حرف گننام ہو تو آخری پانچ حرفونکو چنے

pq- st- vw - y- a - c

A.uvwyu
A.uvwyu
A.uvwyu

B.uvaaw
B.uvaaw
B.uvaaw

C.defgh
C.defgh
C.defgh

D.wxywu
D.wxywu
D.wxywu

Answer: C.defgh
C.defgh
C.defgh

त्रिवेंद्र सिंह रावत हे _____ चे मुख्यमंत्री आहेत

Trivendra Singh Rawat is the Chief Minister of –

त्रिवेन्द्र سنگھ रावत وزیر اعلیٰ ہیں۔

A. हिमाचल प्रदेश
A. Himachal Pradesh
A. ہماچل پردیش کے

B. उत्तराखंड
B. Uttarakhand
B. اتراکھنڈ کے

C. उत्तर प्रदेश
C. Uttar Pradesh
C. اتر پردیش کے

D. झारखंड
D. Jharkhand
D. جھارکھنڈ کے

Answer:

B. उत्तराखंड
B. Uttarakhand
B. اتراکھنڈ کے

सूचना: अर्थपूर्ण परिच्छेद निर्माण करण्यासाठी, खाली दिलेली (P), (Q) (R), (S) आणि (T) ही पाच वाक्ये योग्य अनुक्रमाने पुनर्रचना करा; त्यानंतर खालील प्रश्नांची उत्तर द्या. P. बाळ कृष्ण मूठभर धान्य पकडले आणि दरवाजाकडे पळाला परंतु सर्व धान्य खाली सांडले.

Q. लवकरच तिला जाणवले कि तिची फळांच्या टोपली रत्न आणि सोन्याने भरलेली आहे.

R. कृष्णाला काही फळे हवी होती, त्याने त्या स्त्रीकडे फळे मागितली परंतु तिने त्याबदल्यात मोबदला मागितला.

S. ते पाहून, फळविक्रेती स्त्री श्रीकृष्णाकडे मोहित झाली आणि त्याच्या मुठीत जे काय असेल त्याबदल्यात सर्व फळे त्याला दिली.

T. एकेदिवशी फळविक्रेती स्त्री कृष्णाच्या घराजवळून निघाली होती.

पुनर्रचना केल्यानंतर खालीलपैकी कोणते वाक्य पहिले असेल?

DIRECTION: Rearrange the following five sentences (P), (Q), (R), (S) and (T) in the proper sequence to form a meaningful paragraph; then answer the questions given below them.

P. Baby Krishna grabbed a handful of grains and ran towards the door but all the grains fell in the way.

Q. Soon she realized that her fruit basket was full of jewels and gold.

R. Krishna wanted to have some fruit, he asked the lady for fruit but the lady demanded something in return.

S. On seeing this, the fruit lady was completely smitten by Lord Krishna and gave him all the fruits in exchange for whatever was in his hands.

T. Once a lady who was selling fruits was crossing Shri Krishna's house.

Which of the following should be the FIRST sentence after rearrangement?

کو با معنی پیرا بنانے کے لئے دوبارہ ترتیب دیجئے، پھر نیچے دے گئے سوالوں (T) اور (S)، (R)، (Q)، (P) ہدایات: ان پانچ جملوں کے جواب دیجئے

P. بچہ کرشنا نے مٹھی بر اناج اٹھایا اور دروازے کی طرف باگا لیکن تمام اناج راستے میں گر گیا.

Q. جلدی اسکو احساس ہوا کی اسکی پھولوں کی ٹوکری جوابرات اور سونے سے بری ہے.

R. کرشنا کو کچھ میوہ چاہیے، اسنے عورت سے میوے کے لئے کہا لیکن عورت نے اسکے بدلے کچھ مانگا.

S. بے دیکھ کر، میوے والی عورت دیوتا کرشنا سے بہت متاثر ہوئی اور اسے سارے میوے دے دے بدلے اسکے کہ جو اسکے ہاتھ میں تھا.

T. ایک بار ایک میوہ بچنے والی عورت شری کرشنا کے گھر سے گزری.

دوبارہ ترتیب دینے کے بعد کون سا جملہ پہلے ہونا چاہیے؟

A.T

A.T

A.T

B.P

B.P

B.P

C.R

C.R

C.R

D.S

D.S

D.S

Answer: A.T
A.T
A.T

142

$$\left(1 - \frac{1}{2}\right)\left(1 - \frac{1}{3}\right)\left(1 - \frac{1}{4}\right)\left(1 - \frac{1}{5}\right)\dots\left(1 - \frac{1}{m}\right) = ?$$

A. m

B. m + 1

C. 1/m

D. 1/m-1

Answer: A. m

143

‘ आज नदीकडे जाणारे सर्व रस्ते बंद आहेत. ’ या वाक्यातील विशेषण ओळखा.

A. नदीकडे

B. जाणारे

C. सर्व

D. रस्ते

Answer: C. सर्व

144

जेजे लालपेख्लुआ हे _____ या खेळाशी संबंधित आहेत

Jeje Lalpekhlu is associated with the game of –

جے جے لال پیکھولا کس کھیل سے جڑے ہوئے ہیں۔

A. हॉकी

A. Hockey

A. باکی

B. फुटबॉल

B. Football

B. فٹبال

C. क्रिकेट
C. Cricket
C. کرکٹ

D. यांपैकी कोणतेही नाही
D. None of these
D. ان میں سے کوئی نہیں.

Answer: B. फुटबॉल
B. Football
B. فٹبال

145 शरीराचा कोणते अवयव कधीही विश्रांती घेत नाही?

Which organ of the body never rests?

جسم کا کونسا حصہ کبھی آرام نہیں کرتا ہے؟

A. स्नायू
A. Muscles
A. عضلات

B. यकृत
B. Liver
B. جگر

C. तंत्रिका
C. Nerves
C. اعصاب

D. हृदय
D. Heart
D. قلب

Answer: D. हृदय
D. Heart
D. قلب

146 खालीलपैकी अशुद्ध वाक्य कोणते ?

A. नीता कपडे धूत आहे.

B. तो आंबा खात आहे.

C.आम्ही सर्व सहलीला जाणार आहोत.

D.ते सर्व विटीदांडूला खेळत आहेत.

Answer: D.ते सर्व विटीदांडूला खेळत आहेत.

147

$$\frac{7 \times 7 \times 7 + 3 \times 3 \times 3}{49 - 21 + 9} = ?$$

A. 10

B. 20

C. 60

D. 30

Answer: A. 10

148

$75\frac{11}{10000}$ हा अपूर्णांक दशांश रूपात?

The fraction $75\frac{11}{10000}$ in decimal form is?

کسر $75\frac{11}{10000}$ کی اعشاری شکل ہوگی

A. 0.0011

B. 0.07511

C. 75.0011

D. 75.00011

Answer: C. 75.0011

149

आपण सकाळी काय करतो?

What do we have in the morning?

ہم صبح میں کرتے ہیں؟

A.डिनर
A.Dinner
A. ڈنر

B.लंच
B.Lunch
B. دوپہر کے کھانے کے

C.سॅक्स
C.Snacks
C. نمکین

D.ब्रेकफास्ट
D.Breakfast
D. ناشتا

Answer:

D.ब्रेकफास्ट
D.Breakfast
D. ناشتا

150 P हा Q च्या नैऋत्येला 40 मी. वर आहे. R हा Q च्या आग्नेयला 40 मी. वर असल्यास R हा P च्या कोणत्या दिशेला आहे?
P is 40 m South-West of Q. If R is 40 m South-East of Q, then in which direction is R with respect to P?
P, Q के कस سمت में हुंका? R, P के 40 मीटर جنوبی مغرب में हुं तो R, Q के 40 मीटर جنوبی مغرب سمت में 40 मीटर प्रुवक हुं - अकर Q, P

A.पूर्व
A.East
A. مشرق

B.पश्चिम
B.West
B. مغرب

C.उत्तर पूर्व
C.North East
C. شمال مشرق

D.दक्षिण
D.South
D. جنوب

Answer: A.पूर्व
A.East
A. مشرق

निर्देश: खालील शब्दांची इंग्रजी शब्दकोशानुसार मांडणी करा.

- (1) Reprint
- (2) Reptile
- (3) Repent
- (4) Repute
- (5) Report

DIRECTIONS: Arrange the following words according to the English dictionary.

- (1) Reprint
- (2) Reptile
- (3) Repent
- (4) Repute
- (5) Report

ہدایت: انگریزی لغت کے مطابق مندرجہ ذیل الفاظ کو مرتب کریں۔

- (1) Reprint
- (2) Reptile
- (3) Repent
- (4) Repute
- (5) Report

A.3, 1, 5, 2, 4

A.3, 1, 5, 2, 4

A.3, 1, 5, 2, 4

B.3, 5, 1, 2, 4

B.3, 5, 1, 2, 4

B.3, 5, 1, 2, 4

C.5, 1, 4, 3, 2

C.5, 1, 4, 3, 2

C.5, 1, 4, 3, 2

D.5, 4, 1, 3, 2

D.5, 4, 1, 3, 2

D.5, 4, 1, 3, 2

Answer: A.3, 1, 5, 2, 4

A.3, 1, 5, 2, 4

A.3, 1, 5, 2, 4

निर्देश: खालील अंक-अक्षरी-चिन्ह क्रम यांचा काळजीपूर्वक अभ्यास करा आणि खालील प्रश्नांची उत्तरे द्या.

R * T J L 2 \$ D = M # 8 C % B < K 1 & A W ? P E + Q @ 7 F 6

दिलेल्या पर्यायांपैकी कोणते घटक वर दिलेल्या व्यवस्थेच्या डावी कडून 18 व्या घटकाच्या डाव्या बाजूने 6 वा आहे?

DIRECTIONS: Study the following digit-letter-symbol sequence carefully and answer the questions given below.

R * T J L 2 \$ D = M # 8 C % B < K 1 & A W ? P E + Q @ 7 F 6

If all the symbols in the above arrangement are dropped, then which of the following will be the eighth from the right end?

ہدایت نیچے دی گئی حرف نشان اور نمبرس کی ترتیب کو پڑھئے اور سوالات کا جواب دیجئے

R * T J L 2 \$ D = M # 8 C % B < K 1 & A W ? P E + Q @ 7 F 6

اگر اپری ترتیب سے سارے نشان ہٹاؤ گئے تو سیدھے ہاتھ سے اٹھوا حرف کیا ہوگا؟

A.A

A.A

A.A

B.C

B.C

B.C

C.P

C.P

C.P

D.M

D.M

D.M

Answer: A.A

A.A

A.A

भारताच्या खालीलपैकी कोणत्या वन्यजीव अभयारण्यामध्ये गेंड्याचे संवर्धन करण्याचा प्रकल्प मार्गस्थ आहे?

In which of the following wildlife sanctuary of India, is the project of conservation of Rhinos underway?

درج ذیل جنگلی زندگی سینکچریوں میں ، گینڈوں کے تحفظ کرنے کی منصوبہ بندی کی گئی ہے

A.बांदीपूर
A.Bandipur
A.بانديپور

B.पेरियार
B.Periyar
B.پيريار

C.काझीरंगा
C.Kaziranga
C.کاجيرنگا

D.गीर
D.Gir
D.گر

Answer: C.काझीरंगा
C.Kaziranga
C.کاجيرنگا

154 50% स्पिरिट असलेल्या शेरीच्या बटमधून बटलरने वाईन चोरी केली, मग त्याने त्याच्या जागी 20% स्पिरिट असलेली दुसरी वाईन टाकली. त्यामुळे नवीन मिश्रणामध्ये फक्त 30% सामर्थ्य (स्पिरिट) होते. त्याने चोरलेल्या मुळ वाईनचे प्रमाण?

A butler stole wine from a butt of sherry containing 50% of spirit, then he replaced it by different wine containing 20% spirit. Thus there was only 30% strength (spirit) in the new mixture. How much of the original wine did he steal?

ایک بٹلر نے شیری کی بٹ سے شراب چرایا جس میں 50% اسپرٹ ہے، پھر اس نے 20% اسپرٹ والی مختلف شرابوں سے اسے بھر لیا. اس طرح نئے مرکب میں صرف 30% طاقت (سپرٹ) تھی. اس نے کتنی مقدار میں اصلی شراب چوری کی؟

A.1/3
A.1/3
A.1/3

B.2/3
B.2/3
B.2/3

C.1/2
C.1/2
C.1/2

D.1/4
D.1/4
D.1/4

Answer: B.2/3
B.2/3
B.2/3

155 सरळ रूप द्या: $632142 - 120012 = ?$

Simplify: $632142 - 120012 = ?$

سادہ بنائیں:

$632142 - 120012 = ?$

A.522130

A.522130

A.522130

B.512030

B.512030

B.512030

C.512130

C.512130

C.512130

D.532130

D.532130

D.532130

Answer: C.512130
C.512130
C.512130

156 DIRECTIONS: A sentence with an underlined phrasal verb is given below. Out of the four options, choose the one which can be substituted for the given phrasal Verb.

The Airline had to do away with two of its Jet planes since they had been acting up lately.

A.not working properly

B.working properly

C.flying at a very high speed

D.flying very high

Answer: A.not working properly

157

پेटروئلचा दर्जा या शब्दात सांगितला जातो-

Quality of Petrol is expressed in terms of-

पेट्रोल की कوالٹی کو _____ کی اصطلاح سے تعبیر کیا جاتا ہے۔

A. सीटेन संख्या

A. Cetane number

A. سیٹین نمبر.

B. ओकटाइन संख्या

B. Octane number

B. ओकटिन نمبر.

C. सोने संख्या

C. Gold Number

C. गोल्ड नंबर.

D. यापैकी एकही नाही

D. None of these

D. ان میں سے کوئی بھی نہیں.

Answer:

B. ओकटाइन संख्या

B. Octane number

B. ओकटिन نمبر.

158

जर फासा 3 वेळा फिरवला, तर संभाव्य परिणामांची एकूण संख्या

If a dice is rolled 3 times, then the total number of possible outcomes is

اگر ایک ڈائس 3 بار پھینکی جائے، تو ممکنہ نتائج کی کل تعداد ہے

A. 6^n

A. 6^n

A. 6^n

B. 6^3

B. 6^3

B. 6^3

C. 6^2

C. 6^2

C. 6^2

D.6⁴
D.6⁴
D.6⁴

Answer: B.6³
B.6³
B.6³

159 समजा एक बुद्धिमान विद्यार्थीच्या कुटुंबात काही समस्या झाल्या, त्याचा तुमच्यावर विश्वास आहे, आणि तो तुमच्या कडे समाधान साठी येतो या परिस्थितीत तुम्ही काय कराल?

Suppose an intelligent student became unattentive due to some family problems. As he has deep faith in you, he comes to you for its solution. What action will you take in this condition?

فرض کریں کہ ذہین طالب علم کچھ خاندان کے مسائل کی وجہ سے متاثر ہو گئے. جیسا کہ اس کو آپ پر گہرا اعتماد ہے، وہ اس کے حل کے لئے آپ کے پاس آتا ہے. اس حالت میں آپ کونسی کارروائی کریں گے؟

A. आपण स्वतः चे संरक्षण कराल कारण आपल्याला अशा प्रकारे आपला अपमान होण्याची भीती वाटते

A. You protect yourself as you fear your insult in such a issue

A. آپ اپنی حفاظت کرتے ہیں جیسے آپ اس طرح کے مسئلے میں آپ توہین سے ڈرتے ہیں.

B. आपण धैर्याने विचार कराल आणि काही अनुकूल उपाय सुचवाल

B. You think patiently and suggest some favorable remedy

B. آپ صبر سے سوچتے ہیں اور کچھ سازگار علاج کا مشورہ دیتے ہیں.

C. आपण कुटुंबाचा दोष ओळखून त्याला निस्वार्थ पणे दूर करण्याचा प्रयत्न कराल

C. You solve out your selfishness by knowing his family's weakness

C. آپ اسکے خاندان کی کمزوری کو جان کر اپنی خود غرضی کو حل کرتے ہیں.

D. आपण समस्येमध्ये हस्तक्षेप न करता मुलाला त्याचा हाला वर सोडणार

D. You leave the child without interfering in his problem.

D. آپ اس کے مسئلے میں مداخلت کے بغیر بچے کو چھوڑ دیتے ہیں.

Answer: B. आपण धैर्याने विचार कराल आणि काही अनुकूल उपाय सुचवाल
B. You think patiently and suggest some favorable remedy
B. आप صبر سے سوچتے ہیں اور कचھ سازگار علاج का مشورह दिते हैं.

160 मुलींच्या रांगेत दिव्या डावीकडून नवव्या आणि उजवीकडून सातव्या क्रमांकावर आहे. रांगेत एकूण किती मुली आहेत ?

In a row of girls, Divya is ninth from the left and seventh from the right. How many children are there in the row?

लڑکیوں की कतार में, दूव्या डहाने से नू वी डे और डहाने से सतूवी. कतार में कतने डेडे डे डे?

A.17
A.17
A.17

B.15
B.15
B.15

C.18
C.18
C.18

D.12
D.12
D.12

Answer: B.15
B.15
B.15

161

एका घनाकृतीच्या तीन अवस्था दाखविल्या आहेत. त्यांवर अवलंबून हे शोधून काढा की दिलेल्या घनाकृतीमध्ये 5 या अंकाच्या विरुद्ध बाजूला कोणता अंक असेल?

Three positions of a cube are given. Based on them, find out, which number is found opposite number 5 in a given cube?

ہدایات: ایک کیوب کی تین حالتیں دی گئی ہیں۔ ان کی بنیاد پر، دریافت کیجیے، کونسا نمبر کیوب میں دینے کے 5 نمبر کی اپوسٹ ہے؟



A. 3
B. 4
C. 2
D. 6

Answer: D. 6

162

$$361 \times 101 = ?$$

$$361 \times 101 = ?$$

$$361 \times 101 = ?$$

A.36451

A.36451

A.36451

B.37461

B.37461

B.37461

C.36461

C.36461

C.36461

D.37561

D.37561

D.37561

Answer:

C.36461

C.36461

C.36461

विधान:

X राज्यात गुन्हाचा दर वाढत आहे.

कृतीचा कोर्स:

- I. शाळांमध्ये योग सक्तीचे करा.
- II. वरिष्ठ पोलीस अधिकार्यांची बदली करा.

Statement:

Crime rate in city X is increasing.

Course of actions:

- I. Make yoga compulsory in schools.
- II. Transfer senior police officers.

بیان:

شہر میں جرائم کی شرح بڑھ رہی ہے۔ X

لائحہ عمل:

- I. اسکولوں میں یوگا کو لازم کر دیں۔
- II. سینینئر پولیس افسران کا تبادلہ کر دیں۔

A. फक्त I अनुसरून आहे

A. Only I follows

A. لاگو ہو گا. I صرف

B. फक्त II अनुसरण करते आहे

B. Only II follows

B. لاگو ہو گا. II صرف

C. एकतर I किंवा II अनुसरून आहे

C. Either I or II follows

C. میں سے ایک لاگو ہو گا. II یا I

D. I किंवा II दोन्हीपैकी काहीही अनुसरण करत नाही

D. Neither I nor II follows

D. میں سے کوئی بھی لاگو نہیں ہو گا. II اور I

Answer:

D. I किंवा II दोन्हीपैकी काहीही अनुसरण करत नाही

D. Neither I nor II follows

D. میں سے कोئی بھی لاگو نہیں ہو گا. II اور I

Out of the four alternatives, choose the one which can be substituted for the given words/sentence.
A person giving too much attention to small details and wanting everything to be correct and perfect

A. Fastidious

B.Gullible

C.Lazy

D.Greedy

Answer: A.Fastidious

165 सूचना : खालील प्रत्येक प्रश्नात दोन विधाने I आणि II दिलेले आहेत. हे विधान एकतर स्वतंत्र कारण असू शकतात किंवा स्वतंत्र कारणांचे परिणाम असू शकतात. यांपैकी एक विधान इतर विधानाचा परिणाम असू शकतो. दोन्ही विधाने वाचा आणि खालीलपैकी कोणत्या उत्तराचा पर्याय या दोन्ही विधानांमधील संबंधांचे वर्णन करतो ते ठरवा.

विधान :

I. गेल्या सोमवारी पासून राज्य 'X' मध्ये कारची विक्री कमी झाली आहे.

II. राज्य 'X' ने अशा कारांची नोंदणी स्थगित केली आहे जे अलीकडेच नमूद केलेल्या उत्सर्जन नियमांची पूर्ण करत नाहीत.

DIRECTIONS: Below in each question are given two statements I and II. These statements may be either independent causes or may be effects of independent causes. One of these statements may be the effect of the other statement. Read both the statements and decide which of the following answer choice correctly depicts the relationship between these two statements.

Statements:

I. The sale of cars has dropped in the state 'X' since last Monday.

II. The State 'X' has suspended registration of cars which do not confirm to the emission norms stipulated recently.

زاد وجوہات یا پھر آزاد وجوہات کے اثرات ہو سکتے ہیں۔ ان دیے گئے ہیں۔ یہ بیانات یا تو I اور II ہدایات: نیچے ہر سوال میں دو بیانات بیانات میں سے ایک بیان دوسرے کا اثر ہو سکتا ہے۔ دونوں بیانات پڑھیں اور فیصلہ کریں کہ نیچے دیے گئے کس جواب کا انتخاب ان دونوں بیانات کے درمیان تعلق کو ٹھیک سے ظاہر کرتا ہے۔

بیانات:

I - ریاست میں کاروں کی فروخت کم ہو گئی ہے۔ X پچھلے پیر سے -

II - X - ریاست نے ایسی کاروں کی رجسٹریشن معطل کر دی ہے جو حال ہی میں متعین کردہ اخراج کے معیار سے مطابقت نہیں رکھتیں۔

A.I हा परिणाम आहे आणि II हे त्याचे तात्काळ आणि प्रमुख कारण आहे;

A.I is effect and II is its immediate and principal cause;

A. اس کی فوری اور بنیادی وجہ ہے۔ II اثر ہے اور بیان نمبر I بیان نمبر

B.I हे तात्काळ आणि प्रमुख कारण आहे आणि II हा त्याचा परिणाम आहे;

B.I is the immediate and principal cause and II its effect;

B. اس کا اثر ہے۔ II فوری اور بنیادی وجہ ہے اور بیان نمبر I بیان نمبر

C.I हा परिणाम आहे परंतु II हे त्याचे तात्काळ आणि प्रमुख कारण नाही;
C.I is an effect but II is not its immediate and principal cause;
C. اس کی فوری اور بنیادی وجہ نہیں ہے۔ II اثر ہے لیکن بیان نمبر I بیان نمبر.

D.II हा परिणाम आहे परंतु I हे त्याचे तात्काळ आणि प्रमुख कारण नाही;
D.II is an effect but I is not its immediate and principal cause;
D. اس کی فوری اور بنیادی وجہ نہیں ہے۔ I اثر ہے لیکن بیان نمبر II بیان نمبر.

Answer: A.I हा परिणाम आहे आणि II हे त्याचे तात्काळ आणि प्रमुख कारण आहे;
A.I is effect and II is its immediate and principal cause;
A. اس کی فوری اور بنیادی وجہ ہے۔ II اثر ہے اور بیان نمبر I بیان نمبر.

166 ABC हा त्रिकोण आहे आणि BC ला समांतर असा DE काढला जो D आणि E बिंदूमध्ये इतर बाजूंना कापतो. जर $AB = 4.8$ सेंमी, $AC = 2.4$ सेंमी, $AD = 4.1$ सेंमी असेल, तर AE बरोबर किती:

ABC is a triangle and DE is drawn parallel to BC cutting the other sides at D and E. If $AB = 4.8$ cm, $AC = 2.4$ cm, $AD = 4.1$ cm, then AE is equal to:

ABC त्रिकोण आहे आणि DE BC ला समांतर काढला आहे जो D आणि E बिंदूंमध्ये इतर बाजूंना कापतो. जर $AB = 4.8$ सेंमी, $AC = 2.4$ सेंमी, $AD = 4.1$ सेंमी असेल, तर AE बरोबर किती:

A. 1.05 सेंमी
A. 1.05 cm
A. 1.05 मिटर

B. 2.05 सेंमी
B. 2.05 cm
B. 2.05 मिटर

C. 3.05 सेंमी
C. 3.05 cm
C. 3.05 मिटर

D. 4.05 सेंमी
D. 4.05 cm
D. 4.05 मिटर

Answer: B. 2.05 सेंमी
B. 2.05 cm
B. 2.05 मिटर

सूचना: अर्थपूर्ण परिच्छेद निर्माण करण्यासाठी, खाली दिलेली (P), (Q), (R), (S) आणि (T) ही पाच वाक्ये योग्य अनुक्रमाने पुनर्रचना करा; त्यानंतर खालील प्रश्नांची उत्तर द्या. P. बाळ कृष्ण मूठभर धान्य पकडले आणि दरवाजाकडे पळाला परंतु सर्व धान्य खाली सांडले.

Q. लवकरच तिला जाणवले कि तिची फळांच्या टोपली रत्न आणि सोन्याने भरलेली आहे.

R. कृष्णाला काही फळे हवी होती, त्याने त्या स्त्रीकडे फळे मागितली परंतु तिने त्याबदल्यात मोबदला मागितला.

S. ते पाहून, फळविक्रेती स्त्री श्रीकृष्णाकडे मोहित झाली आणि त्याच्या मुठीत जे काय असेल त्याबदल्यात सर्व फळे त्याला दिली.

T. एकेदिवशी फळविक्रेती स्त्री कृष्णाच्या घराजवळून निघाली होती.

पुनर्रचना केल्यानंतर खालीलपैकी कोणते वाक्य चौथे असेल?

DIRECTION: Rearrange the following five sentences (P), (Q), (R), (S) and (T) in the proper sequence to form a meaningful paragraph; then answer the questions given below them.

P. Baby Krishna grabbed a handful of grains and ran towards the door but all the grains fell in the way.

Q. Soon she realized that her fruit basket was full of jewels and gold.

R. Krishna wanted to have some fruit, he asked the lady for fruit but the lady demanded something in return.

S. On seeing this, the fruit lady was completely smitten by Lord Krishna and gave him all the fruits in exchange for whatever was in his hands.

T. Once a lady who was selling fruits was crossing Shri Krishna's house.

Which of the following should be the FOURTH sentence after rearrangement?

کو با معنی پیرا بنانے کے لئے دوبارہ ترتیب دیجئے، پھر نیچے دے گئے سوالوں (T) اور (S)، (R)، (Q)، (P) ہدایات: ان پانچ جملوں کے جواب دیجئے

P. بچہ کرشنا نے مٹھی بر اناج اٹھایا اور دروازے کی طرف باگا لیکن تمام اناج راستے میں گر گیا.

Q. جلدی اسکو احساس ہوا کی اسکی پھولوں کی ٹوکری جوابرات اور سونے سے بری ہے.

R. کرشنا کو کچھ میوہ چاہیے، اسنے عورت سے میوے کے لئے کہا لیکن عورت نے اسکے بدلے کچھ مانگا.

S. بے دیکھ کر، میوے والی عورت دیوتا کرشنا سے بہت متاثر ہوئی اور اسے سارے میوے دے دے بدلے اسکے کہ جو اسکے ہاتھ میں تھا.

T. ایک بار ایک میوہ بچنے والی عورت شری کرشنا کے گھر سے گزری.

دوبارہ ترتیب دینے کے بعد کون سا جملہ چوتھا ہونا چاہیے؟

A.S

A.S

A.S

B.P

B.P

B.P

C.Q

C.Q

C.Q

D.R

D.R

D.R

Answer: A.S
A.S
A.S

168 सूचना: खालील प्रश्नांमध्ये दिलेल्या पर्यायांमधून संबंधित अक्षर/शब्द/संख्या निवडा.

DIRECTIONS: In the following question, select the related letter/word/number from the given alternatives.

Eye: See :: Leg : ?

سمت: مندرجہ ذیل سوال میں، دیے گئے متبادل سے متعلقہ حرف/لفظ/نمبر منتخب کریں۔

آنکھ: دیکھنا :: ٹانگ : ؟

A. दृष्टी
A.Vision
A.بصارت

B. वॉक
B.Walk
B.چلنا

C. हात
C.Hand
C.ہاتھ

D. जोडा
D.Shoe
D.جوتا

Answer: B. वॉक
B.Walk
B.چلنا

169 $3^2 \times 9^2 = (3)^x$ मध्ये x चे मूल्य आहे:

The value of x for which $3^2 \times 9^2 = (3)^x$ holds is:

$3^2 \times 9^2 = 3^x$ X का मान جسके لئے

A.2
A.2
A.2

B.3
B.3
B.3

C.6
C.6
C.6

D.8
D.8
D.8

Answer: C.6
C.6
C.6

170 विद्युत चुम्बकीय तरंग अस्तित्वात आहे हा सिद्धात प्रथम कोणी सांगितला?

Who first theorized the existence of electromagnetic waves?

سب سے پہلے ایکٹرومیگنیٹک لہروں کی موجودگی کی تھیوری کس نے پیش کی؟

A. हर्ट्झ
A. Hertz
A. ہرٹز

B. मॅक्सवेल
B. Maxwell
B. میکس وال

C. मार्कोनी
C. Marconi
C. مارکونی

D. रोमर
D. Romer
D. رومر

Answer: B. मॅक्सवेल
B. Maxwell
B. میکس وال

172 निर्देश: पुढील प्रश्नांपैकी प्रत्येक प्रश्नात एक संख्या गहाळ आहे. मालिकेचा नमुना समजून घ्या आणि योग्य संख्या निवडा.
2, 9, 23, 3, 8, 25, 4, , 27

DIRECTION: In each of the following questions, one number is missing in the series. You have to understand the pattern of the series and insert the number.

2, 9, 23, 3, 8, 25, 4, , 27

ہدایت جیل کے ہر سوال میں سرچ کا ایک نمبر گمشدہ ہے . آپکو اس سرچ کو سمجھنا ہے . اور گمشدہ نمبر کو یہاں کھوجنا ہے

2, 9, 23, 3, 8, 25, 4, , 27

A.7

A.7

A.7

B.29

B.29

B.29

C.23

C.23

C.23

D.14

D.14

D.14

Answer: A.7

A.7

A.7

173 दरमहा पैशांवरील व्याज हे एक रूपयाला 1 पैसा एवढे आहे, तर प्रति वर्ष दर किती टक्के आहे?

If the interest on money be 1 paisa per rupee per month, what is the rate per cent per annum?

اگر رقم ایک روپیہ پر ماہانہ 1 پیسہ سود ہے، تو سالانہ فیصد در کیا ہوگی؟

A.10%

A.10%

A.10%

B.11%

B.11%

B.11%

C.15%
C.15%
C.15%

D.12%
D.12%
D.12%

Answer: D.12%
D.12%
D.12%

174 खालीलपैकी नपुंसकलिंगी शब्द ओळखा.

- A. सुवासिनी
B. सुशिक्षित
C. सुलक्षण
D. सुरपती

Answer: C. सुलक्षण

175 जर $S \times T$ चा अर्थ 'S हा T चा भाऊ आहे', $S + T$ चा अर्थ 'S हा T चे वडील आहे', तर खालीलपैकी कशाद्वारे 'O' हा R चा चुलतभाऊ आहे असे दिसते?

If $S \times T$ means 'S is brother of T', $S + T$ means 'S is the father of T', which of the following shows 'O' is the cousin of R?

का चचा زاد ہے? 'O' R का बाप ہے, 'T+S' का مطلب 'T S' का भाऊ आहे, 'T x S' का مطلب 'T S' का चुलतभाऊ आहे असे दिसते?

A. $R \times T + O$
A. $R \times T + O$
A. $R \times T + O$

B. $R + T \times O$
B. $R + T \times O$
B. $R + T \times O$

C. $R \times O \times T$
C. $R \times O \times T$
C. $R \times O \times T$

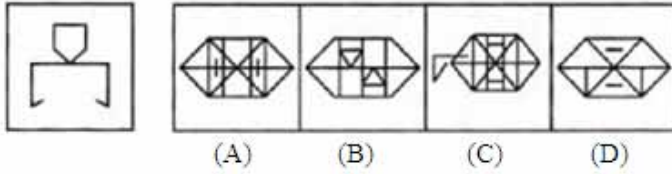
- D.यापैकी एकही नाही
D.None of these
D.ان میں سے کوئی نہیں.

Answer: D.यापैकी एकही नाही
D.None of these
D.ان میں سے کوئی نہیں.

176 सूचना: खालील प्रश्नात उत्तरातील पर्यायांपैकी कोणत्या पर्यायी आकृतीत प्रश्नातील आकृती अंतर्भूत आहे?

DIRECTIONS: In the given question find the answer figure in which question figure is embedded.

ہدایات: دیئے گئے سوال میں جواب والی شکل دریافت کیجیے جس میں سوال والی شکل سرایت کر گئی ہے۔



- A. (A)
B. (B)
C. (C)
D. (D)

Answer: C. (C)

177 जर त्रिकोणाचे क्षेत्रफळ 1176 सेंमी² असेल आणि त्याचा पाया आणि सुसंग उंचीचे गुणोत्तर 4:3 असेल, तर त्रिकोणाची उंची काय आहे?

If area of a triangle is 1176 cm² and ratio of its base and corresponding height is 4 : 3, then what is the height of the triangle?

اگر ایک مثلث کا رقبہ 1176 مربع سینٹی میٹر ہے اور اسکی نلی کا تناسب اور متساوی اونچائی 4:3 ہے، تو مثلث کی اونچائی کیا ہے؟

- A.42 سेंمی
A.42 cm
A.42 سینٹی میٹر

- B.52 سेंمی
B.52 cm
B.52 سینٹی میٹر

C.54 सेंमी
C.54 cm
C.54 सेंटी मीटर

D.56 सेंमी
D.56 cm
D.56 सेंटी मीटर

Answer: A.42 सेंमी
A.42 cm
A.42 सेंटी मीटर

178 बलाची व्याख्या न्यूटनच्या यातून येते-

Definition of force comes from Newton's—

زور کی تعریف نیوٹن کے _____ سے نکلتی ہے۔

A.गतीचा पहिला नियम
A.First law of motion
A.मोशन (حرکت) کے پہلا قانون.

B.गतीचा दुसरा नियम
B.Second law of motion
B.मोशन (حرکت) का दुसरा قانون.

C.गतीचा तिसरा नियम
C.Third law of motion
C.मोशन (حرکت) का तिसरा قانون.

D.गुरुत्वाकर्षणाचा नियम
D.Law of gravitation
D.तकालत के قانون.

Answer: A.गतीचा पहिला नियम
A.First law of motion
A.मोशन (حرکت) के पहला قانون.

179 प्राणी पेशीमध्ये काय उपस्थित नाही?

Which is not present in animal cells?

جانور کے خلیات (سیل) میں ان میں سے کیا نہیں ہوتا ہے؟

A. पेशी भित्तिका

A. Cell wall

A. سيل وال

B. पेशी आवरण

B. Cell membrane

B. سيل مميرين

C. कोशिका द्रव्य

C. Cytoplasm

C. سائٹوپلازم

D. वरील सर्व

D. all of the above

D. ان میں سے سبھی

Answer:

A. पेशी भित्तिका

A. Cell wall

A. سيل وال

सूचना: प्रत्येक प्रश्नाला एक प्रमुख विधानासोबत चार विधाने आहेत ज्यांच्याखाली A, B, C आणि D असे चार विधान आहेत. क्रमवार विधानांची जोडी निवडा ज्यामध्ये प्रथम विधान दुसऱ्या विधानाला सुचवते, आणि दोन्ही विधाने तर्किकदृष्ट्या प्रमुख विधानासोबत निगडित असेल.

जेंव्हा मी शॉपिंगला जातो, मी क्षुल्लक गोष्टींवर पैसा घालवत नाही.

- A. मी शॉपिंगला गेलो
- B. मी शॉपिंगला गेलो नाही
- C. मी क्षुल्लक गोष्टींवर पैसा घालवला नाही
- D. मी क्षुल्लक गोष्टींवर पैसा घालवला

DIRECTIONS: Each question has a main statement followed by four statements labelled A, B, C and D. Choose the ordered pair of statements, where the first statement implies the second, and the two statements are logically consistent with the main statement.

If I go for shopping , I don't waste money on trivial things.

- A. I went for shopping
- B. I did not go for shopping
- C. I did not waste money on trivial things.
- D. I wasted money on trivial things.

ہدایت: ہر سوال میں ایک جملہ ہے جس کے بعد چار جملے آئے، بی، سی اور ڈی کے نام سے دئے گئے ہیں اس میں منسلک جوڑیوں کو چنئے۔ جہاں پہلا جملہ دوسرے جملہ کی اور اشارہ کر رہا ہے اور دو جملے منطقی مرکزی بیان کے مطابق ہیں

میں شاپنگ پر جاؤں تو فضول چیزوں پر پیسے ضائع نہیں کرتا۔

- A - میں شاپنگ کرنے گیا۔
- B - میں شاپنگ کرنے نہیں گیا۔
- C - میں نے فضول چیزوں پر پیسے ضائع نہیں کیئے۔
- D - میں نے فضول چیزوں پر پیسے ضائع کیئے۔

A.AC

A.AC

A.AC

B.BC

B.BC

B.BC

C.DA

C.DA

C.DA

D.CD

D.CD

D.CD

A.कालिक वय
A.chronological age
A.گنتی کے لحاظ سے عمر.

B.सामाजिक वय
B.social age
B.سماجی عمر.

C.जैविक वय
C.biological age
C.حیاتیاتی عمر.

D.मानसिक वय
D.psychological age
D.نفسیاتی عمر.

Answer: D.मानसिक वय
D.psychological age
D.نفسیاتی عمر.

183 'जलौघ' या शब्दाची संधी सोडवा.

A.जल + औघ

B.जल + ओघ

C.ज + लौघ

D.जला + ऊघ

Answer: B.जल + ओघ

184 खालीलपैकी शुद्ध शब्द कोणता ?

A.खसखशीत

B.खसखषीत

C.खसखशित

D.खसखषित

Answer: A.खसखशीत

185

खालीलपैकी अशुद्ध शब्द कोणता ?

A. झपाटणे

B. झांझर

C. झावळणे

D. झींगणे

Answer:

D. झींगणे

186

रणथंबोर राष्ट्रीय उद्यान _____ या राज्यामध्ये आहे

The Ranthambore National Park is in the state of –

रन्तहमबोर قومی پارک ہے۔

A. उत्तर प्रदेश

A. Uttar Pradesh

A. اترپردیش میں

B. राजस्थान

B. Rajasthan

B. राजस्थान میں

C. हिमाचल प्रदेश

C. Himachal Pradesh

C. हिमाचल प्रदेश میں

D. उत्तराखंड

D. Uttarakhand

D. अठराकण्ड में

Answer:

B. राजस्थान

B. Rajasthan

B. राजस्थान में

187

एका वर्गातील 54 विद्यार्थ्यांपैकी 22 मुली आहेत. मुलींची टक्केवारी काय आहे?

Out of 54 students in a class 22 are girls. What is the percentage of girls?

ایک کلاس میں 54 میں سے 22 طلباء لڑکیاں ہیں. لڑکیوں کی فیصد کیا ہے؟

A.39%

A.39%

A.39%

B.40.74%

B.40.74%

B.40.74%

C.43%

C.43%

C.43%

D.41%

D.41%

D.41%

Answer: B.40.74%

B.40.74%

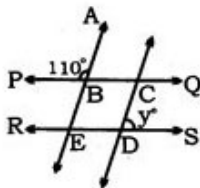
B.40.74%

188

संलग्न आकृतीमध्ये, $AE \parallel CD$ आणि $BC \parallel ED$, तर Y काढा.

In the adjoining figure, $AE \parallel CD$ and $BC \parallel ED$, then find Y .

محلقة شکل میں، $AE \parallel CD$ اور $BC \parallel ED$ ، پھر Y تلاش کریں۔



(A) 70°

(B) 60°

(C) 45°

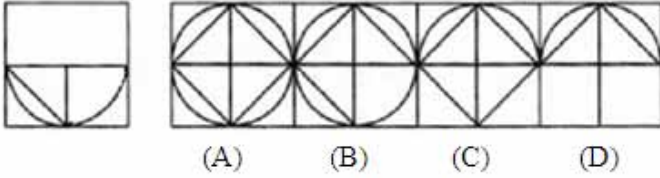
(D) 90°

Answer: (A) 70°

189 सूचना: खालील प्रश्नात उत्तरातील पर्यायांपैकी कोणत्या पर्यायी आकृतीत प्रश्नातील आकृती अंतर्भूत आहे?

DIRECTIONS: In the given question find the answer figure in which question figure is embedded.

ہدایات: دیئے گئے سوال میں، جواب کی شکل کو دریافت کیجیے جو سوال میں سرایت کر کئی ہے۔



A. (A)

B. (B)

C. (C)

D. (D)

Answer: C. (C)

190 शशी पश्चिमेला तीन किलोमीटर जातो आणि मग डावीकडे वळून दोन किलोमीटर जातो आणि मग उजवीकडे वळतो आणि मग एक किलोमीटर जातो. तो पुन्हा उजवीकडे वळतो आणि पाच किलोमीटर जातो. तर तो सुरुवातीच्या ठिकाणापासून किती दूर आहे?

Shashi travels three kilometers to the West and then turns left and goes two kilometers and then turns right and then goes one kilometer. He again turns right and goes five kilometers. How far is he from the starting point?

शशी तीन किलोमीटर مغرب کی طرف سفر کرتا ہے اور پھر بائیں مڑتا ہے اور دو کلومیٹر تک جاتا ہے اور پھر دائیں مڑتا ہے اور پھر ایک کلومیٹر تک جاتا ہے۔ وہ پھر دائیں مڑتا ہے اور پانچ کلومیٹر جاتا ہے۔ وہ اپنے شروعاتی نقطہ سے کتنی دور ہے؟

A.5 किमी
A.5 km
A.5 क्लोमिटर

B.2 किमी
B.2 km
B.2 क्लोमिटर

C.3 किमी
C.3 km
C.3 क्लोमिटर

D.4 किमी
D.4 km
D.4 क्लोमिटर

Answer: A.5 किमी
A.5 km
A.5 क्लोमिटर

191 राज्याच्या राज्यपाल यांच्याद्वारे नियुक्त केला जातो-

The Governor of a state is appointed by -

- ریاست کا گورنر کس کی طرف سے مقرر کیا جاتا ہے

A.मुख्यमंत्री
A.Chief Minister
A. وزیر اعلیٰ

B.गृहमंत्री
B.Home Minister
B. وزیر داخلہ

C.पंतप्रधान
C.Prime Minister
C. وزیر اعظم

D.राष्ट्रपती
D.President
D. صدر

Answer: D.राष्ट्रपती
D.President
D. صدر

सूचना: प्रत्येक प्रश्नाला एक प्रमुख विधानासोबत चार विधाने आहेत ज्यांच्याखाली A, B, C आणि D असे चार विधान आहेत. क्रमवार विधानांची जोडी निवडा ज्यामध्ये प्रथम विधान दुसऱ्या विधानाला सुचवते, आणि दोन्ही विधाने तर्किकदृष्ट्या प्रमुख विधानासोबत निगडित असेल.

तीच्याकडे एकतर कुत्रा आहे किंवा मांजर आहे.

- A. तीच्याकडे एक मांजर आहे.
- B. तीच्याकडे मांजर नाही.
- C. तिच्याकडे एक कुत्रा आहे.
- D. तिच्याकडे कुत्रा नाही.

DIRECTIONS: Each question has a main statement followed by four statements labelled A, B, C and D. Choose the ordered pair of statements, where the first statement implies the second, and the two statements are logically consistent with the main statement.

She has either a dog or a cat.

- A. She has a cat
- B. She does not have a cat
- C. She has a dog
- D. She does not have a dog

ہدایت: ہر سوال میں ایک جملہ ہے جس کے بعد چار جملے آئے، بی، سی اور ڈی کے نام سے دئے گئے ہیں اسمیں منسلک جوڑیوں کو چنئے۔ جہاں پہلا جملہ دوسرے جملہ کی اور اشارہ کر رہا ہے اور دو جملے منطقی مرکزی بیان کے مطابق ہیں

اس کے پاس یا تو ایک کتا ہے یا ایک بلی

- A - اس کے پاس بلی ہے
- B - اس کے پاس بلی نہیں ہے
- C - اس کے پاس کتا ہے
- D - اس کے پاس کتا نہیں ہے

A.AC

A.AC

A.AC

B.DA

B.DA

B.DA

C.CB

C.CB

C.CB

D.AB

D.AB

D.AB

Answer: B.DA
B.DA
B.DA

193 सूचना: दिलेल्या पर्यायांमधून वेगळे ते बाहेर काढा.

DIRECTIONS: Find the odd one out from the given alternatives.

سمت: دیے گئے متبادل میں سے بے جوڑ کو تلاش کرو۔

A. मुंगी
A.ANT
A. چिंठी.

B. बाहू
B.ARM
B. بازو.

C. घुबड
C.OWL
C. الو.

D. ठेवणे
D.PUT
D. رکھنا.

Answer: D. ठेवणे
D.PUT
D. رکھना.

194 दमस्कस ही _____ ची राजधानी आहे

Damascus is the capital of –

دمشق راجدھانی ہے۔

A. ग्रीस
A.Greece
A. ग्रीस की.

B. लिबिया
B.Libya
B. ليبيا की.

C. جॉर्डن
C. Jordan
C. جارڈن کی.

D. यांपैकी कोणतेही नाही
D. None of these
D. ان میں سے کوئی نہیں.

Answer:

D. यांपैकी कोणतेही नाही
D. None of these
D. ان میں سے کوئی نہیں.

सूचना: काही विधाने आणि त्यानंतर चार निष्कर्ष, I, II, III आणि IV दिले आहेत. ही विधाने सामान्यतः ज्ञात वस्तुस्थितीपेक्षा भिन्न असली तरी सत्य आहेत असे समजा. दिलेल्यापैकी कोणता निष्कर्ष दिलेल्या विधानांवरून नक्की काढता येऊ शकतो हे तुम्ही ठरवायचे आहे. तुमचे उत्तर सूचित करा.

विधाने:

- (a) सर्व पुस्तकं बॉक्सेस आहेत.
- (b) सर्व बॉक्सेस पेन्स आहेत.
- (c) सर्व पेन्स कागद आहेत.

निष्कर्ष:

- I. काही कागद पुस्तकं आहेत.
- II. सर्व पुस्तकं कागद आहेत.
- III. काही पेन्स पुस्तकं आहेत.
- IV. सर्व बॉक्सेस पुस्तकं आहेत.

DIRECTION: Some statements are given following by four conclusions, I, II, III and IV. You have to consider that statements to be true, even if they seem to be at variance from commonly known facts. You are to decide which of the given conclusions can definitely be drawn from the given statements. Indicate your answer.

Statements:

- (a) All books are boxes.
- (b) All boxes are pens.
- (c) All pens are papers.

Conclusion:

- I. Some paper are books.
- II. All books are papers.
- III. Some pens are books.
- IV. All boxes are books.

اپ کو وہ سٹیٹمنٹ درست ماننا ہے، اگرچہ دکھنے میں وہ بہت IV اور III، II، I. ہدایات: کچھ سٹیٹمنٹ جو کہ چار خلاصوں پر مشتمل ہیں۔ سارے حقائق ست مطبقت رکھتی ہو۔ اپ کو دیے گئے خلاصوں میں سے یقینی طور پر اسے اختیار کرنا ہے جو سٹیٹمنٹ سے نکلا ہو۔ اپنا جواب تلاش کرے

اظہار بیان:

- تمام کتابیں صندوق ہیں
- تمام صندوق پن ہیں
- تمام پن پیپر ہیں

نتائج:

- تمام پیپر کتابیں ہیں I
- تمام کتابیں پیپر ہیں II
- کچھ پن کتابیں ہیں III
- تمام صندوق کتابیں ہیں IV

A. केवळ निष्कर्ष I आणि III निघेल

A. Only conclusion I and III follow

A. درست ہے III اور I

B. एकतरनिष्कर्ष II किंवा IV
B. Either conclusion II or IV
B. II یا IV درست ہے

C. केवल निष्कर्ष I, II आणि III निष्कर्ष निघेल
C. Only conclusion I, II and III follow
C. درست ہے II, I और III

D. एकतर निष्कर्ष I किंवा II किंवा III निष्कर्ष निघेल
D. Either conclusion I or II or III follows
D. I या II या III درست ہے

Answer: C. केवल निष्कर्ष I, II आणि III निष्कर्ष निघेल
C. Only conclusion I, II and III follow
C. درست ہے II, I और III

196 'ENIGMATIC' या शब्दामध्ये अक्षरांच्या किती जोड्या आहेत, ज्यापैकी प्रत्येकीमध्ये वर्णमालेप्रमाणे शब्दामधील खूप अक्षरे आहेत?

How many pairs of letters are there in the word 'ENIGMATIC' each of which has as many letters between them in the word as in the alphabet?

क्लومیटर

A. एकही नाही
A. None
A. None

B. एक
B. One
B. One

C. दोन
C. Two
C. Two

D. तीन
D. Three
D. Three

Answer: B. एक
B. One
B. One

197

Choose the word which is most similar in meaning to the given word.

VIGILANT

A. Watchful

B. Negligent

C. Inattentive

D. Incautious

Answer:

A. Watchful

198

निर्देश: खालील शब्दांची तार्किक क्रमाने मांडणी करा:

1. उत्पन्न
2. दर्जा
3. शिक्षण
4. कल्याण
5. नोकरी

DIRECTIONS: Arrange the following in a logical order:

1. Income
2. Status
3. Education
4. Well being
5. Job

ہدایات: ایک منطقی ترتیب میں مندرجہ ذیل کو مرتب کریں۔

1. آمدنی
2. حیثیت
3. تعلیم
4. خیر
5. نوکری

A. 1, 2, 5, 3, 4

A. 1, 2, 5, 3, 4

A. 1, 2, 5, 3, 4

B. 1, 3, 2, 5, 4

B. 1, 3, 2, 5, 4

B. 1, 3, 2, 5, 4

C.3, 1, 5, 2, 4

C.3, 1, 5, 2, 4

C.3, 1, 5, 2, 4

D.3, 5, 1, 2, 4

D.3, 5, 1, 2, 4

D.3, 5, 1, 2, 4

Answer: D.3, 5, 1, 2, 4

D.3, 5, 1, 2, 4

D.3, 5, 1, 2, 4

199

سُچنا: ديليليا پرياڻامڏهن شريني پورن ڪرڻاري يوغن آڪرتي نيوڏا.

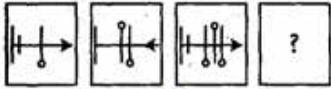
DIRECTIONS: Complete the series by choosing right figure from the given choices.

پدايا: ديئو ڪئو اختييارا ميڻ سو صحيح شكل ڪو چن ڪر سيريڙ ڪو مڪمل ڪيجيئو

پرسن آڪرتيا

Question Figures

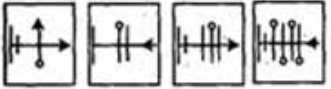
سوالي شكل



وتتاساڻي پرياڻي آڪرتيا

Answer Figures

جوايي شكل



A B C D

A. (A)

B. (B)

C. (C)

D. (D)

Answer: D. (D)

200

اڪ وڪرڙ سڀرپڻامڏهه، هه اڀرڪيت ناهي.

In an excellent communication, it is not desired—

—ايڪ بهترين مواسلات ميڻ، يه مڀلوب نهيڻ هه

A.आवाजात बदल (व्हॉइस मोड्यूलेशन)
A.Change in voice (voice modulation)
A. (आवाज मल तबदलल) (आवाज का अलड)

B.बाह्य कलंवा शारलरक सौंदर्य
B.External or physical beauty
B. बाडरुड डड अडसमानी खुडवसुवुतुड

C.भावनलंके डरुडडत संडुरेषण
C.Communication of adequate feelings
C. कलडड अडसलसलत कुड तुडसलल

D.वलदुडारुथुडलंका सहभाग
D.Involvement of students
D. डुडडल कुड शुडुवलत

Answer:

B.बाह्य कलंवा शारलरक सौंदर्य
B.External or physical beauty
B. बाडरुड डड अडसमानी खुडवसुवुतुड
